

Всероссийская олимпиада по географии  
2022/23 учебный год  
Школьный этап

**Задания для участников 11 класса**

Время, отведенное на выполнение заданий обоих туров – 90 минут

Максимальное количество баллов за оба тура – 100.

Внимательно прочитайте каждое задание. Ответ записывайте разборчиво.

**Примечание.** Не разрешается пользоваться школьными атласами и другими источниками информации.

Шифр Ш15-ГЕО-11-101

398

**Часть 1 – тестовый тур**

**1. Укажите государство, к которому относятся Фарерские острова:**

- а) Португалия;
- б) Испания;
- в) Дания;
- г) Швеция.

Ответ: б

Критерии оценивания: за правильный ответ - 1 балл.

**2. Определите страну по ее краткому описанию.**

В этой стране железнодорожный транспорт получил развитие достаточно давно, и сегодня не играет ведущей роли, но по показателям его работы, например, по грузообороту, страна прочно лидирует в мире. Страна также лидирует по протяженности сети железных дорог, однако доля электрифицированных дорог крайне мала, и составляет всего 1%.

- а) Россия;
- б) Канада;
- в) Китай;
- г) США;
- д) Германия.

Ответ: а

Критерии оценивания: за правильный ответ - 1 балл.

**3. Выберите вариант, в котором присутствуют только страны – абсолютные монархии:**

- а) Великобритания, Дания, Испания;
- б) ОАЭ, Катар, Оман;
- в) Германия, Австрия, Индия;
- г) США, Франция, Россия.

Ответ: б

Критерии оценивания: за правильный ответ - 1 балл.

**4. Укажите остров, на котором находятся территория формально одного государства, а фактически - двух государств:**

- а) Тимор;
- б) Калимантан;
- в) Кипр;
- г) Крымский;
- д) Ирландия.

Ответ: г

Критерии оценивания: за правильный ответ - 1 балл.

Критерии оценивания: за каждый правильный ответ - 1 балл, всего - 2 балла.

11. В таблице приведены данные по запасам и добыче природного газа в России в 2015 г. (млрд.м<sup>3</sup>) по крупнейшим разрабатываемым месторождениям. Определите два месторождения, являющимися лидерами по показателю ресурсообеспеченности

Месторождение	Запасы	Добыча	Ресурсообеспеченность
Уренгойское	5370	89,7	
Заполярье	2274	79,3	
Ямбургское	3057	61,8	
Астраханское	3076	11,1	
Медвежье	556	7,6	

Ответ: 1 место Уренгойское 2 место Ямбургское

Критерии оценивания: за каждый правильный ответ - 1 балл, всего - 2 балла.

12. Какая страна из предложенного списка омывается водами только одного океана?


- а) Египет
- б) Израиль
- в) Колумбия
- г) Марокко
- д) Таиланд

Ответ: г

Критерии оценивания: за правильный ответ - 1 балл.

13. Прочитайте описание. Назовите страну.

Этот флаг был официально принят в 1969 году. Он диагонально разделен на две части: верхняя левая часть – желтого цвета, а нижняя правая часть – оранжевого цвета. Посередине флага



страны находится эмблема белого дракона, смотрящего направо. Дракон держит драгоценности в своих когтях, что обозначает богатство государства. Изображенный на флаге дракон символизирует местное наименование страны – Земля Дракона. Рычащий рот дракона представляет собой силу народа, защищающего свою страну. Оранжевый цвет обозначает монастыри и религию местную религию, а оранжево-желтый цвет символизирует светскую власть монарха. Белый цвет обозначает чистоту и преданность.

- а) Непал
- б) Бутан
- в) Бруней
- г) Камбоджа
- д) Япония

Ответ: Страна Бутан

Критерии оценивания: за правильный ответ - 2 балла.

14. Найдите по одному лишнему слову в каждом варианте, характеризующем отдельную страну:

- а) Беларусь: зубр, полесье, картофель, МАЗы, золото, Днепр;
- б) Италия: мода, НАТО, Рурский бассейн, туризм, рыба, Фиат, Сардиния.

Ответ: а) Днепр; б) НАТО

Критерии оценивания: за каждый правильный ответ - 1 балл, всего - 2 балла.

15. Выберите показатели, которые характерны и для Бразилии, и для Индии:

- а) входят в десятку крупнейших стран по численности населения

Ответ: 2

Критерии оценивания: за правильный ответ - 2 балла.

**20. Как звали погибшего хантыйского князя, в честь которого назван исторический район города**

Столица Ханты – Мансийского автономного округа – Югры – город Ханты – Мансийск. Ровно 430 лет назад здесь произошло важное историческое событие: небольшой отряд атамана Ермака под предводительством Богдана Брязги подошёл на лодках к хантыйскому поселению. Между казаками и ханты произошло сражение. Но казаки пошли на хитрость: они смастерили чучела людей и посадили их в лодки. Стрелы ханты со звоном отскакивали от чучел. В результате князь хантыйского поселения погиб, а все жители присягнули на верность московскому царю.

Ответ: \_\_\_\_\_

Критерии оценивания: за правильный ответ - 3 балла.

**Часть 2 – теоретический тур**

**Задание 1. Вставьте пропущенные слова в данный текст описания одной из стран мира.**

Рельеф страны преимущественно горный, горы занимают 71% территории, имеются многочисленные действующие и потухшие вулканы, в том числе и высшая точка страны – \_\_\_\_\_ (на острове \_\_\_\_\_, высотой 3776 м). Полезными ископаемыми бедна, практическое значение имеют лишь запасы каменного угля. Добывается также сера, йод, золото и серебро.

На севере страна омывается Беринговым морем, на западе Японским морем, на юго-западе – \_\_\_\_\_ морем, на востоке – Тихим океаном.

Климат большей части территории – субтропический муссонный, на севере – умеренный, на юге – тропический. Свыше 2/3 занято лесами: на севере – хвойными, в центральной части – широколиственными и на юге – субтропическими вечнозелеными.

Является развитой страной, значительную долю в экономике занимает сфера услуг. По объему промышленного производства занимает одно из первых мест в мире. В обрабатывающей промышленности наиболее развиты машиностроение (производство автомобилей, электроники и электротехники, судов, станков), чёрная металлургия, химическая, текстильная и пищевая промышленность. Основным средством передвижения является автотранспорт, использующий двустороннее движение.

По форме правления страна является абсолютная монархией во главе с \_\_\_\_\_. Население практически однородное, лишь на севере острова \_\_\_\_\_ проживают \_\_\_\_\_. В стране проживает 126 млн. человек (в 2018 г.), и по этому показателю она находится на 6-месте в мире. Большинство верующих – христиане и Якимо <sup>буддисты</sup>, причем, обычно исповедуют сразу две религии. Столицей страны является город Токио <sup>+</sup>. В пределах столичной агломерации проживают 35 млн. человек (2017 г.).

Критерии оценивания: за каждый правильный ответ - 1 балл, всего - 16 баллов.

**Задание 2.** Вам предлагаются описания и изображения некоторых форм рельефа, различных по своему происхождению и геоморфологических (геоморфология – наука о происхождении и формах рельефа) процессов и явлений. Выберите из предложенных списков эти формы рельефа или процессы и впишите в соответствующую колонку таблицы.

**1. Формы рельефа:** столовые горы, старица, атолл, бугры пучения, фиорд (фьорд),

№	Описание формы рельефа	Название
---	------------------------	----------

65

**2. Процессы:** криогенные процессы, аккумуляция, денудация, карст, эоловые процессы.

№	Описание геологического процесса	Название
1.	Процессы накопления рыхлого минерального материала и органических остатков на поверхности суши и на дне водоемов. В зависимости от основного фактора, вызывающего этот процесс, выделяют морскую, озерную, речную, ветровую, биогенную, антропогенную и другие типы.	Эоловые (Криогенные) процессы →
2.	Процесс сноса и частичного перемещения продуктов выветривания горных пород под действием разных факторов и агентов (гравитации, воды, ветра и др.).	Денудация +
3.	Процессы, происходящие в местах распространения многолетней и сезонной мерзлоты, при содержании в грунтах замёрзшей воды. Проявляются в пучении и морозной сортировке грунтов, растрескивании, в создании морозобойных клиньев и т.д.	(Эоловые) Криогенные процессы +
4.	Группа внешних (экзогенных) процессов, связанных с деятельностью ветра. Наиболее активно проявляются в аридных (сухих) условиях. Различают действие с созданием ниш, котлов выдувания и аккумулятивное – с образованием дюн, барханов и др.	Аккумуляция
5.	Название этого процесса произошло от одноименного наименования известнякового плато в Словении. Он представляет собой совокупность процессов и явлений, связанных с деятельностью воды и выражающихся в растворении горных пород и образовании в них пустот, а также своеобразных форм рельефа, возникающих на местностях, сложенных сравнительно легко растворимыми в воде горными породами – гипсом, известняком, мрамором, доломитом и каменной солью.	Карст +

Критерии оценивания: за каждый правильный ответ - 1 балл, всего - 10 баллов.

**Задание 3.**


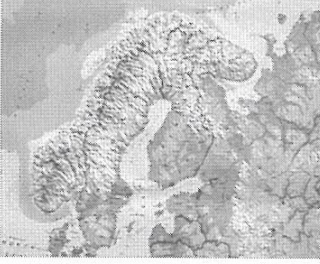

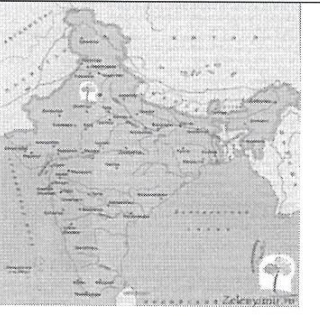
**В предложенном тексте в скобках подчеркнуть правильные ответы.**

Республика Саха (Якутия) – субъект РФ в (Дальневосточном/Сибирском) федеральном округе; — относится к Восточно-(Сибирскому/Дальневосточному) экономическому району. Образован в 1922 г. Административный центр – город Якутск, в котором в 2108 г. проживает (312 тыс. чел. /964 тыс. чел.). Граничит с Чукотским АО и Магаданской областью на востоке, с Хабаровским краем на юго-востоке, на юге – с Амурской областью и Забайкальским краем, с на западе граничит с Красноярским краем. Время в республике отличается от московского на (4 /5 /6 / 7/ 8) часов. Регион является + (первым/вторым) по площади субъектом России. Площадь территории – 3 103,3 тыс. км<sup>2</sup>, что составляет 18,1% территории России. На севере она омывается водами двух морей – (морем Лаптевых/Чукотским морем) и (Восточно-Сибирским морем/Карским морем). На севере в состав — Якутии (входит архипелаг Северная Земля/ входят Новосибирские острова).

Всего в Якутии сосредоточено большое количество российских запасов угля. Масштабная + угледобыча ведётся в Южно-Якутском (буроугольном/каменноугольном) бассейне. На западе + региона возле города (Мирный/Норильск) создана и существует и сегодня очень мощная алмазодобывающая промышленная инфраструктура.

+ Климат в республике (умеренно/резко) континентальный, характерны сильные колебания температур воздуха в течение года. Разница температур самого холодного месяца — января и самого тёплого — июля составляет 70-75°С. Именно в Якутии находится Полюс холода северного полушария (Оймякон/Верхоянск), где в феврале 1892 г. была зарегистрирована температура — (-67,8°С/-89,2°С).

+ Якутия относится к благополучным по обеспеченности водными ресурсами регионам. Западная + часть региона расположена в бассейне реки (Енисей/Лена), восточная – в бассейнах рек Яны, + Индигирки и Колымы. Большая часть территории Якутии расположена в зоне (тайги/тундры). Самым

5			1. К территории какой страны относится полуостров: <u>Испания</u> .
6.			Назовите две страны, территории которых полностью расположены на этом полуострове: 1. _____; 2. _____.
7.			1. К какой стране относится этот полуостров: <u>Индонезия</u> .
8			1. Какая страна занимает практически полностью территорию этого полуострова: _____.

Критерии оценивания: за каждый правильный ответ - 1 балл, всего - 26 баллов.

38

### Задание 5.

#### Ответьте на вопрос

На тюменской земле берут старт мощные нефте- и газопроводы. Стальные артерии связали нас с центром страны, Волгой и Дунаем, пересекли государственные границы. Какие из них были самые первые, а какие самые длинные?

Азербайджаном  
Самыми первыми были границы с Белоруссией, Украиной, Эстонией, Литвой,  
Самыми длинными были границы с Польшей и Латвией, Грузией, Казахстаном.

Критерии оценивания: за каждый правильный ответ - 1 балл, всего - 2 балла.

Всероссийская олимпиада по географии  
2022/23 учебный год  
Школьный этап

2/15

**Задания для участников 11 класса**

Время, отведенное на выполнение заданий обоих туров – 90 минут  
Максимальное количество баллов за оба тура – 100.

Внимательно прочитайте каждое задание. Ответ записывайте разборчиво.

**Примечание.** Не разрешается пользоваться школьными атласами и другими источниками информации.

Шифр Ш15-ГЕО-11-102

**Часть 1 – тестовый тур**

**1. Укажите государство, к которому относятся Фарерские острова:**

- а) Португалия;
- б) Испания;
- в) Дания;
- г) Швеция.

10

Ответ: б

Критерии оценивания: за правильный ответ - 1 балл.

**2. Определите страну по ее краткому описанию.**

В этой стране железнодорожный транспорт получил развитие достаточно давно, и сегодня не играет ведущей роли, но по показателям его работы, например, по грузообороту, страна прочно лидирует в мире. Страна также лидирует по протяженности сети железных дорог, однако доля электрифицированных дорог крайне мала, и составляет всего 1%.

- а) Россия;
- б) Канада;
- в) Китай;
- г) США;
- д) Германия.

Ответ: г

Критерии оценивания: за правильный ответ - 1 балл.

**3. Выберите вариант, в котором присутствуют только страны – абсолютные монархии:**

- а) Великобритания, Дания, Испания;
- б) ОАЭ, Катар, Оман;
- в) Германия, Австрия, Индия;
- г) США, Франция, Россия.

10

Ответ: б

Критерии оценивания: за правильный ответ - 1 балл.

**4. Укажите остров, на котором находятся территория формально одного государства, а фактически - двух государств:**

- а) Тимор;
- б) Калимантан;
- в) Кипр;
- г) Крымский;
- д) Ирландия.

Ответ: в

Критерии оценивания: за правильный ответ - 1 балл.

Критерии оценивания: за каждый правильный ответ - 1 балл, всего - 2 балла.

11. В таблице приведены данные по запасам и добыче природного газа в России в 2015 г. (млрд.м<sup>3</sup>) по крупнейшим разрабатываемым месторождениям. Определите два месторождения, являющимися лидерами по показателю ресурсообеспеченности

Месторождение	Запасы	Добыча	Ресурсообеспеченность
Уренгойское	5370	89,7	549,7 59,8
Заполярье	2274	79,3	2353,3 28
Ямбургское	3057	61,8	3113,8 49,46
Астраханское	3076	11,1	3087,1 277,1
Медвежье	556	7,6	5636 73,1

Ответ: 1 место Уренгойское 2 место Ямбургское

Критерии оценивания: за каждый правильный ответ - 1 балл, всего - 2 балла.

12. Какая страна из предложенного списка омывается водами только одного океана?


- а) Египет
- б) Израиль
- в) Колумбия
- г) Марокко
- д) Таиланд

Ответ: г

Критерии оценивания: за правильный ответ - 1 балл.

13. Прочитайте описание. Назовите страну.

Этот флаг был официально принят в 1969 году. Он диагонально разделен на две части: верхняя левая часть – желтого цвета, а нижняя правая часть – оранжевого цвета. Посередине флага страны находится эмблема белого дракона, смотрящего направо. Дракон держит драгоценности в своих когтях, что обозначает богатство государства. Изображенный на флаге дракон символизирует местное наименование страны – Земля Дракона. Рычащий рот дракона представляет собой силу народа, защищающего свою страну. Оранжевый цвет обозначает монастыри и религию местную религию, а оранжево-желтый цвет символизирует светскую власть монарха. Белый цвет обозначает чистоту и преданность.



- а) Непал
- б) Бутан
- в) Бруней
- г) Камбоджа
- д) Япония

Ответ: Страна Япония

Критерии оценивания: за правильный ответ - 2 балла.

14. Найдите по одному лишнему слову в каждом варианте, характеризующем отдельную страну:

- а) Беларусь: зубр, полесье, картофель, МАЗы, золото, Днепр;
- б) Италия: мода, НАТО, Рурский бассейн, туризм, рыба, Фиат, Сардиния.

Ответ: а) золото, б) Рурский бассейн

Критерии оценивания: за каждый правильный ответ - 1 балл, всего - 2 балла.

15. Выберите показатели, которые характерны и для Бразилии, и для Индии:

- а) входят в десятку крупнейших стран по численности населения

Ответ: 1

25

Критерии оценивания: за правильный ответ - 2 балла.

**20. Как звали погибшего хантыйского князя, в честь которого назван исторический район города**

Столица Ханты – Мансийского автономного округа – Югры – город Ханты – Мансийск. Ровно 430 лет назад здесь произошло важное историческое событие: небольшой отряд атамана Ермака под предводительством Богдана Брязги подошёл на лодках к хантыйскому поселению. Между казаками и ханты произошло сражение. Но казаки пошли на хитрость: они смастерили чучела людей и посадили их в лодки. Стрелы ханты со звоном отскакивали от чучел. В результате князь хантыйского поселения погиб, а все жители присягнули на верность московскому царю.

Ответ: Хант

Критерии оценивания: за правильный ответ - 3 балла.

**Часть 2 – теоретический тур**

**Задание 1. Вставьте пропущенные слова в данный текст описания одной из стран мира.**

Рельеф страны преимущественно горный, горы занимают 71% территории, имеются многочисленные действующие и потухшие вулканы <sup>+</sup>, в том числе и высшая точка страны – Эльбрус (на острове \_\_\_\_\_, высотой 3776 м). Полезными ископаемыми бедна, практическое значение имеют лишь запасы каменного угля. Добывается также сера, йод, золото и серебро.

На севере страна омывается Северным морем, на западе \_\_\_\_\_ морем, на юго-западе – Черным морем, на востоке – Тихим океаном. <sup>+</sup>

Климат большей части территории – субтропический муссонный, на севере – умеренный, на юге – тропический. Свыше 2/3 занято лесами: на севере – хвойными, в центральной части – широколиственными и на юге – субтропическими вечнозелеными.

Является развитой страной, значительную долю в экономике занимает сфера услуг. По объему промышленного производства занимает одно из первых мест в мире. В обрабатывающей промышленности наиболее развиты машиностроение (производство автомобилей, электроники и электротехники, судов, станков), чёрная металлургия, химическая, текстильная и пищевая промышленность. Основным средством передвижения является автотранспорт, использующий \_\_\_\_\_ стороннее движение.

По форме правления страна является абсолютной монархией во главе с президентом. Население практически однородное, лишь на севере острова проживают \_\_\_\_\_. В стране проживает 126 млн. человек (в 2018 г.), и по этому показателю она находится на 3-м месте в мире. Большинство верующих – мусульман и буддистов <sup>+</sup>, причем, обычно исповедуют сразу две религии. Столицей страны является город \_\_\_\_\_. В пределах столичной агломерации проживают 35 млн. человек (2017 г.).

Критерии оценивания: за каждый правильный ответ - 1 балл, всего - 16 баллов.

**Задание 2.** Вам предлагаются описания и изображения некоторых форм рельефа, различных по своему происхождению и геоморфологических (геоморфология – наука о происхождении и формах рельефа) процессов и явлений. Выберите из предложенных списков эти формы рельефа или процессы и впишите в соответствующую колонку таблицы.

**1. Формы рельефа:** столовые горы, старица, атолл, бугры пучения, фиорд (фьорд),

№	Описание формы рельефа	Название
---	------------------------	----------



## 2. Процессы: криогенные процессы, аккумуляция, денудация, карст, эоловые процессы.

№	Описание геологического процесса	Название
1.	Процессы накопления рыхлого минерального материала и органических остатков на поверхности суши и на дне водоемов. В зависимости от основного фактора, вызывающего этот процесс, выделяют морскую, озерную, речную, ветровую, биогенную, антропогенную и другие типы.	денудация
2.	Процесс сноса и частичного перемещения продуктов выветривания горных пород под действием разных факторов и агентов (гравитации, воды, ветра и др.).	эоловые процессы
3.	Процессы, происходящие в местах распространения многолетней и сезонной мерзлоты, при содержании в грунтах замёрзшей воды. Проявляются в пучении и морозной сортировке грунтов, растрескивании, в создании морозобойных клиньев и т.д.	аккумуляция
4.	Группа внешних (экзогенных) процессов, связанных с деятельностью ветра. Наиболее активно проявляются в аридных (сухих) условиях. Различают действие с созданием ниш, котлов выдувания и аккумулятивное – с образованием дюн, барханов и др.	карст
5.	Название этого процесса произошло от одноименного наименования известнякового плато в Словении. Он представляет собой совокупность процессов и явлений, связанных с деятельностью воды и выражающихся в растворении горных пород и образовании в них пустот, а также своеобразных форм рельефа, возникающих на местностях, сложенных сравнительно легко растворимыми в воде горными породами – гипсом, известняком, мрамором, доломитом и каменной солью.	криогенные процессы

Критерии оценивания: за каждый правильный ответ - 1 балл, всего - 10 баллов.

25

### Задание 3.



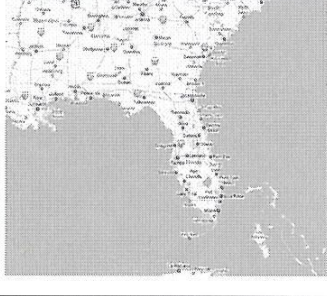

**В предложенном тексте в скобках подчеркнуть правильные ответы.**

Республика Саха (Якутия) – субъект РФ в (Дальневосточном/Сибирском) федеральном округе; относится к Восточно-(Сибирскому/Дальневосточному) экономическому району. Образован в 1922 г. Административный центр – город Якутск, в котором в 2108 г. проживает (312 тыс. чел./964 тыс. чел.). Граничит с Чукотским АО и Магаданской областью на востоке, с Хабаровским краем на юго-востоке, на юге – с Амурской областью и Забайкальским краем, с на западе граничит с Красноярским краем. Время в республике отличается от московского на (4 / 5 / 6 / 7 / 8) часов. Регион является (первым/вторым) по площади субъектом России. Площадь территории – 3 103,3 тыс. км<sup>2</sup>, что составляет 18,1% территории России. На севере она омывается водами двух морей – (морем Лаптевых/Чукотским морем) и (Восточно-Сибирским морем/Карским морем). На севере в состав Якутии (входит архипелаг Северная Земля/ входят Новосибирские острова).

Всего в Якутии сосредоточено большое количество российских запасов угля. Масштабная угледобыча ведётся в Южно-Якутском (буроугольном/каменноугольном) бассейне. На западе региона возле города (Мирный/Норильск) создана и существует и сегодня очень мощная алмазодобывающая промышленная инфраструктура.

Климат в республике (умеренно/резко) континентальный, характерны сильные колебания температур воздуха в течение года. Разница температур самого холодного месяца — января и самого тёплого — июля составляет 70-75°C. Именно в Якутии находится Полюс холода северного полушария (Оймякон/Верхоянск), где в феврале 1892 г. была зарегистрирована температура (-67,8°C/-89,2°C).

Якутия относится к благополучным по обеспеченности водными ресурсами регионам. Западная часть региона расположена в бассейне реки (Енисей/Лена), восточная – в бассейнах рек Яны, Индигирки и Колымы. Большая часть территории Якутии расположена в зоне (тайги/тундры). Самым

5			1. К территории какой страны относится полуостров: _____.
6.			Назовите две страны, территории которых полностью расположены на этом полуострове: 1. _____; 2. _____.
7.			1. К какой стране относится этот полуостров: _____.
8			1. Какая страна занимает практически полностью территорию этого полуострова: _____.

*Критерии оценивания: за каждый правильный ответ - 1 балл, всего - 20 баллов.*

**Задание 5.**

**Ответьте на вопрос**

На тюменской земле берут старт мощные нефте- и газопроводы. Стальные артерии связали нас с центром страны, Волгой и Дунаем, пересекли государственные границы. Какие из них были самые первые, а какие самые длинные?

Самые первые - Дунаем, самые длинные - Волгой

*Критерии оценивания: за каждый правильный ответ - 1 балл, всего - 2 балла.*

**Задания для участников 7 класса**

**Инструкция по выполнению работы**

Время, отведенное на выполнение заданий обоих туров – 90 минут

Максимальное количество баллов за оба тура – 50.

Внимательно прочитайте каждое задание.

Ответ записывайте разборчиво.

Примечание. Не разрешается пользоваться школьными атласами и другими источниками информации.

Шифр Ш15-Гео-7-101

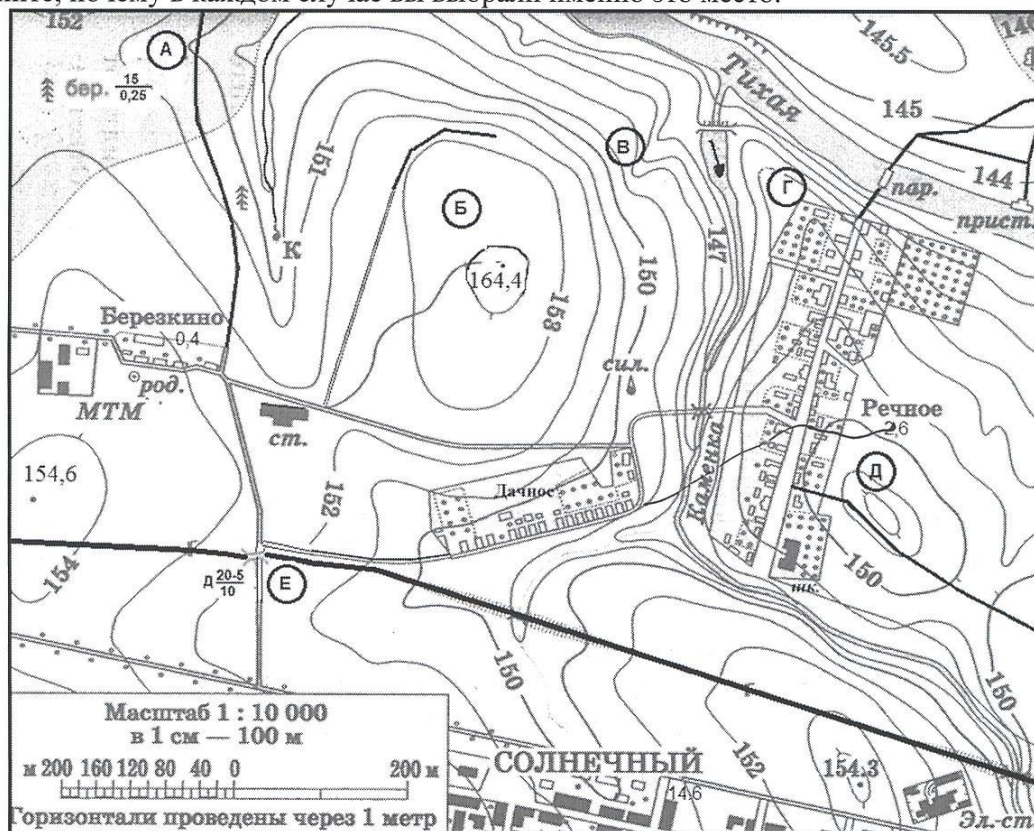
**ЗАДАНИЯ ТЕОРЕТИЧЕСКОГО ТУРА**

Общее количество баллов – 30 баллов

Задание	1	2	3	4	Итого
Максимальное кол-во баллов	11	5	6	8	30
Оценка участника					

**Задание 1.** На предложенном фрагменте топографической карты допущены 9 ошибок. Найдите их.

Буквами в кружках отмечены места, где можно разместить перечисленные объекты. Объясните, почему в каждом случае вы выбрали именно это место.



Критерии оценивания: за правильный ответ материка, объяснения – по 1 баллу (3 балла); за каждый правильный ответ на вопросы – 0,5 балла. Всего 5 баллов.

**Задание 3.**

В 2016 году Лена смогла отметить свой день рождения именно в тот день, когда она родилась. Но сделала она это всего лишь 3-й раз за всю жизнь, хотя учится девочка в 5-м классе.

Как называется год, в который родилась Лена? Сколько он длится?

высокосный год

Сколько лет девочке? 12 лет

Какого числа родилась Лена? 29 февраля

Критерии оценивания: за правильный ответ по 1 баллу, поощрительные баллы за полноту расчета в ответах на 3 и 4 вопрос – по 1 баллу. Всего 6 баллов.

$3 \cdot 4 = 12$   $16 - 12$

45  
ML

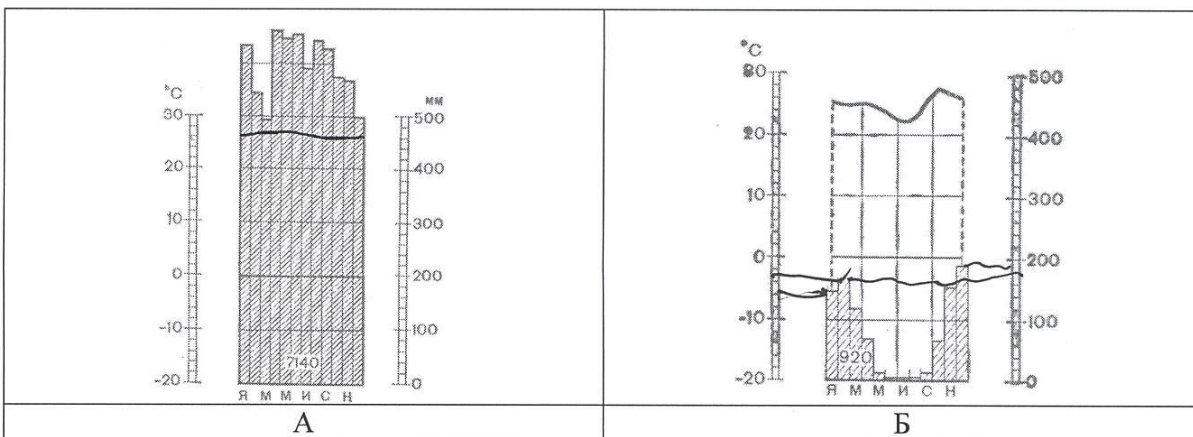
**Задание 4.**

Установите соответствие между изображенными на рисунке с климатограммами и метеостанциями из таблицы, для которых известны географические координаты. Определите для каждой метеостанции тип и подтип климата.

Учтите, что одна строчка останется незаполненной.

Климатограмма	Метеостанция	Широта	Долгота	Абсолютная высота, м	Тип и подтип климата
	Финикс	33° с.ш.	112° з.д.	338	
		38° с.ш.	13° в.д.	72	
		5° с.ш.	77° з.д.	76	
		11° ю.ш.	45° з.д.	436	
		30° ю.ш.	31° в.д.	5	

Метеостанции: Финикс (США), Ибипетуба (Бразилия), Дурбан (ЮАР), Андагоя (Колумбия)



- 1) 36 км; 2) 27,8 км; 3) 22,5 км; 4) 25 км.

Ответ: 2

Критерии оценивания: за правильный ответ – 0,5 баллов.



**7. Причины образования цунами:**

- 1) ветер; 2) притяжение вод океана Луной;  
3) подводные землетрясения; 4) течения.

Ответ: 3

Критерии оценивания: за правильный ответ – 0,5 баллов.

**8. В мультфильме «Зима в Простоквашино» машина Дяди Федора застряла в яме. А как такую форму рельефа показывают на топографических картах?**

- 1)   
2) 

Ответ: 2

Критерии оценивания: за правильный ответ – 0,5 баллов.

**9. Приведите соответствие элемент погоды – измерительный прибор, впишите ответы в поля:**

- |                         |              |
|-------------------------|--------------|
| 1. атмосферное давление | а) флюгер    |
| 2. влажность воздуха    | б) осадкомер |
| 3. количество осадков   | в) гигрометр |
| 4. направление ветра    | г) барометр  |

Ответ:

1  г    2  в    3  б    4  а

Критерии оценивания: за правильный ответ – 0,5 баллов. Всего 2 балла

**10. Выберите правильное утверждение, в котором указаны материки по мере увеличения их площади:**

- 1) Австралия, Антарктида, Северная Америка, Южная Америка, Африка, Евразия;  
2) Евразия, Африка, Северная Америка, Южная Америка, Антарктида, Австралия;  
3) Австралия, Антарктида, Южная Америка, Африка, Северная Америка, Евразия;  
4) Австралия, Антарктида, Южная Америка, Северная Америка, Африка, Евразия.

Ответ: 4

Критерии оценивания: за правильный ответ – 0,5 баллов.

**11. Город является одним из старейших сибирских городов. Был основан 4 людьми: воеводой, священником, купцом и охотником. Сегодня на центральной улице города стоит замечательный памятник основателям города:**

- 1) Ханты – Мансийск; 2) Нижневартовск; 3) Сургут; 4) Нефтеюганск.

Ответ: 2

Критерии оценивания: за правильный ответ – 0,5 баллов.

**12. Какие части гидросферы нельзя видеть на физической карте мира:**

- 1) мировой океан; 2) воды атмосферы; 3) подземные воды;  
4) поверхностные воды.

Ответ: 3

Критерии оценивания: за правильный ответ – 0,5 баллов. Всего 1 балл.

**13. Определите, под какой цифрой находится лишнее название.**



Фосса



Малый тенрек

Фосса приобрела внешний вид, напоминающий кошку (хотя и состоит в близком родстве с мангустами). Малый тенрек внешне чрезвычайно похож на ежа.

Ответ: Остров \_\_\_\_\_ Пролив \_\_\_\_\_

Критерии оценивания: за правильный ответ - 1 балл. Всего 2 балла.

**20. Прочитайте описание. О какой необычной вершине идет речь?**

Эту вершину называют по-разному. Правительство страны, лежащей к югу от горы, в 1965 г. объявило, что имеется такое название «Сагарматха», что означает «небесная вершина». На языке народа, проживающего к северу от этой вершины, ее название переводится как «мать страны гор». В 1856 г. вершине дали европейское название в честь начальника топографической службы.

Ответ:

Горная вершина (местное название) Сагарматха

Горная вершина (европейское название) Килиманджаро

Заполните таблицу, соотнесите номер фотографии и название вершины.

Горные вершины: Эльбрус, Килиманджаро, Гекла, Фудзияма, Сагарматха.

Учтите, что в списке указана одна лишняя вершина.

А	<p>Гекла</p>	
Б	<p>Килиманджаро</p>	

25

Всероссийская олимпиада по географии  
2022/23 учебный год  
Школьный этап

175

Задания для участников 5-6 класса

Инструкция по выполнению работы

Время, отведенное на выполнение заданий обоих туров – 90 минут  
Максимальное количество баллов за оба тура – 50.  
Внимательно прочитайте каждое задание.  
Ответ записывайте разборчиво.

Примечание. Не разрешается пользоваться школьными атласами и другими источниками информации.

Шифр LL 15 GEO 56101

ЗАДАНИЯ ТЕОРЕТИЧЕСКОГО ТУРА  
Общее количество баллов – 35 баллов

Задание	1	2	3	4	5	6	Итого
Максимальное кол-во баллов	2	3	3	3	22	2	35
Оценка участника							

**Задание 1.**

Существуют ли на Земле точки, для определения, местонахождения которых достаточно определить только широту? Если да, то назовите их.

Ответ: Только на карте есть точки а на Земле точек нет

Критерии оценивания: за правильный ответ – 2 балла.

**Задание 2.**

Исправьте географические ошибки

1. Город Мадагаскар остров Мадагаскар +;
2. Ладожское море Ладожская река ;
3. Озеро Амазонка река Амазонка +;
4. Аравийский залив Аравийский залив ;
5. Остров Гималаи Гималаи ;
6. Красное озеро Красное озеро .

Критерии оценивания: за каждый верный ответ - 0,5 балла. Всего – 3 балла.

**Задание 3.**

К какому понятию принадлежат следующие ассоциации:

Волна, землетрясение, опасность, скорость, бедствие лишние  
Скалы, пороги, зрелище, грохот, вода гора  
Океан, лёд, гора, опасность скорость

Критерии оценивания: за каждый верный ответ - 1 балл. Всего – 3 балла.

**Задание 4.**

Один невнимательный ученик на плане местности обозначил зеленым цветом следующие объекты:

**ЗАДАНИЯ ТЕСТОВОГО ТУРА**  
**Общее количество баллов – 15 баллов**

<b>Задание</b>	<b>1</b>	<b>2</b>	<b>3</b>	<b>4</b>	<b>5</b>	<b>6</b>	<b>7</b>	<b>8</b>	<b>Итого</b>
<b>Максимальное кол-во баллов</b>	0,5	0,5	0,5	0,5	0,5	0,5	0,5	0,5	
<b>Оценка участника</b>									
<b>Задание</b>	<b>9</b>	<b>10</b>	<b>11</b>	<b>12</b>	<b>13</b>	<b>14</b>	<b>15</b>	<b>16</b>	<b>Итого</b>
<b>Максимальное кол-во баллов</b>	0,5	0,5	0,5	0,5	1	1	2	5	15
<b>Оценка участника</b>									

**1. Что изучают естественные науки?**

- 1) образ жизни людей 2) историю цивилизаций  
 ③ экономику страны 4) природу окружающего мира

Критерии оценивания: за правильный ответ - 0,5 балла.

**2. Воображаемая прямая, проходящая через центр Земли, вокруг которой происходит суточное вращение Земли:**

- 1) полярный круг; 2) земная ось; ③ экватор; 4) северный полюс.

Критерии оценивания: за правильный ответ - 0,5 балла.

**3. Днём и ночью, в любую погоду верным путеводителем является компас. Где появился первый компас?**

- 1) в Японии; 2) в Индии; ③ в Испании; 4) в Китае.

Критерии оценивания: за правильный ответ - 0,5 балла.

**4. Назовите сторону горизонта, противоположную северо-востоку:**

- ① юго-восток; 2) юго-запад; 3) северо-запад; 4) север

Критерии оценивания: за правильный ответ - 0,5 балла.

**5. Какая природная зона описана в тексте?**

«Лето тёплое, но зима суровая, преобладают хвойные растения, так как они менее требовательны к теплу. Животный мир разнообразен».

- 1) тундра ② тайга 3) пустыня 4) арктическая пустыня

Критерии оценивания: за правильный ответ - 0,5 балла.

**6. Какое озеро России включено в список объектов Всемирного природного наследия?**

- 1) Ладожское ② Байкал 3) Каспийское 4) Онежское

Критерии оценивания: за правильный ответ - 0,5 балла.

**7. Ближайшими к Земле планетами Солнечной системы являются:**

- 1) Сатурн и Юпитер; ② Марс и Венера;  
 3) Юпитер и Марс; 4) Венера и Меркурий

Критерии оценивания: за правильный ответ - 0,5 балла.

**8. Чем является Солнце в Солнечной системе?**

- ① звездой 2) планетой 3) крупным астероидом 4) кометой

Критерии оценивания: за правильный ответ - 0,5 балла.

**9. Какое утверждение неверно?**

- ① Лес — защитник почвы 2) Лесов так много, что вырубить их все невозможно  
 3) Лес очищает воздух 4) Лес защищает почву от разрушения.

Критерии оценивания: за правильный ответ - 0,5 балла.




**10. Что является основным занятием людей в тундре?**

- 1) растениеводство; ② рыболовство; 3) оленеводство

Критерии оценивания: за правильный ответ - 0,5 балла.

**11. На каком материке находится наша страна:**





I) Антарктида

II) Африка

III) Новая Зеландия

IV) Австралия

V) Южная Америка

Ответ: Австралия, Антарктида, Африка

Критерии оценивания: за правильный ответ – 5 баллов.