

25

8 класс

Инструкция по выполнению работ

Время на выполнение работы – 90 минут.

Максимальное количество баллов – 100.

Вам предлагается выполнить задания школьного этапа Олимпиады. Просим внимательно прочесть формулировку каждого задания, чтобы дать ответ на поставленные вопросы в той форме, которую предполагает каждое задание. Успехов Вам в выполнении работы!

Шифр ИИ-15-ИСТ-8-101

Задание № 1. Выберите один правильный ответ. Впишите ответы в таблицу.

1.1. В каком году произошли описанные в повести события?

«И приехал в землю Рязанскую, и увидел ее опустевшую, города разорены, церкви пожжены, люди убиты. И помчался в город Рязань, и увидел город разоренный, государей убитых и множество народа полегшего: одни убиты и посечены, другие пожжены, а иные в реке потоплены. И воскричал Евпатий в горести души своей, распаяся в сердце своем. И собрал небольшую дружину - тысячу семьсот человек, которых бог сохранил вне города».

- А) 1237 г. Б) 1238 г. В) 1239 г. Г) 1240 г.

1.2. Определите по нижеприведенному отрывку памятника древнерусской литературы, о каком историческом событии идет речь?

«На том поле грозные тучи сошлись, а из них беспрерывно молнии сверкали и гремели громы великие... Это сверкали доспехи золоченые, а гремели князья русские мечами булатными о шлемы хиновские. А бились с утра до полудня в субботу на Рождество Святой Богородицы».

- А) Битва на р. Калке Б) Битва на р. Сити В) Куликовская битва Г) Ледовое побоище.

1.3. Какая настоящая фамилия самозванца, появившегося при польском дворе под именем царевича Дмитрия Ивановича?

- А) Хованский Б) Шуйский В) Телятевский Г) Отрепьев

1.4. В каком году в России был созван первый Земский собор?

- А) 1547 г. Б) 1549 г. В) 1551 г. Г) 1589 г.

1.5. При каком великом князе киевском был совершен последний русский поход на Константинополь?

- А) при Святославе Игоревиче В) при Ярославе Владимировиче
Б) при Владимире Святославиче Г) при Святославе Ярославиче

Ответ:

1.1.	1.2.	1.3.	1.4.	1.5.
3	В А	В	Г	В +

25

Критерии оценивания: за каждый верный ответ - 2 балла, всего – 10 баллов.

Задание № 2. Какое из перечисленных понятий (имён, дат, событий) является лишним в данном ряду? Лишнее слово или словосочетание зачеркните. Укажите, по какому принципу образован каждый ряд, то есть кратко поясните, что объединяет события (понятия, имена, даты).

А) мечник, мытник, ~~выход~~, тать, головник, вира

Ответ: Все остальные названия князей 25

Б) 1497г., 1550г., 1581г., 1597г., 1612 г., 1649 г.

Ответ: _____

В) гривна, куна, золотник, векша, резана, ~~ногата~~

Ответ: Все остальные это валюты

Г) ~~Афанасий Никитин~~, Семен Дежнев, Владимир Атласов, Симон Ушаков, Василий Поярков, Ерофей Хабаров

Ответ: Все остальные открыватели земель

Критерии оценивания: за каждый верный ответ - 4 балла, всего - 16 баллов.

Задание № 3. Выберите три правильных ответа на каждый вопрос. Впишите ответы в таблицу.

3.1. Укажите названия рыцарских орденов, возникших во времена крестовых походов.

- 1) Орден Святого Михаила
- 2) Мальтийский орден
- 3) Орден тамплиеров
- 4) Орден Британской империи
- 5) Орден госпитальеров
- 6) Орден Святого Духа

3.2. Кто из нижеперечисленных европейских правителей был в 1189 году участником крестового похода «трех кесарей»?

- 1) Ричард I Львиное Сердце
- 2) Генрих II Плантагенет
- 3) Филипп II Август
- 4) Фридрих I Барбаросса
- 5) Эдуард Чёрный Принц
- 6) Людовик IX Святой

3.3. Какие из перечисленных итальянских городов в период средневековья были республиками?

- 1) Неаполь
- 2) Флоренция
- 3) Венеция
- 4) Рим
- 5) Генуя
- 6) Милан

Ответ:

3.1	3.2	3.3
1, 6, 1	1	1, 4, 2, 3, 5

35

Критерии оценивания: за каждый верный ответ - 1 балл, всего - 9 баллов.

Задание № 4. Выберите один правильный ответ. Впишите ответы в таблицу.

4.1. В каком памятнике древнерусской литературы впервые упоминаются народ «югра»?

- 1) «Слово о полку Игореве»
- 2) «Повесть временных лет»
- 3) «Хождение за три моря»

4.2. В период какого русского царя был основан город Сургут?

- 1) Иван IV Васильевич
- 2) Федор Иоаннович
- 3) Борис Годунов

4.3. На месте какого югорского княжества был основан Сургутский острог?

- 1) Пельымское княжество
- 2) Казымское княжество
- 3) Бардаково княжество

Ответ:

4.1.	4.2.	4.3.
2 +	3	3 +

25

Критерии оценивания: за каждый верный ответ - 1 балл, всего - 3 балла.

Задание №5. Определите хронологический порядок событий. Занесите буквенные обозначения событий в хронологическом порядке в приведенную таблицу.

- 5.1. А) учреждение опричнины
- Б) начало введения заповедных лет
- В) бегство А. М. Курбского в Литву
- Г) Московское восстание
- Д) начало царствования Фёдора Ивановича
- Е) отмена опричнины

- 5.2. А) Хождение «за три моря» Афанасия Никитина Б) кругосветное плавание Ф. Магеллана
 В) исследование Е. Хабаровым реки Амур Г) путешествие Марко Поло в Индию
 Д) открытие Х. Колумбом Америки Е) экспедиция Бартоломеу Диаша
- 5.3. А) принятие «Соборного Уложения» Б) воцарение Романовых
 В) Медный бунт Г) Соляной бунт
 Д) царствование Ивана и Петра Е) начало реформ патриарха Никона

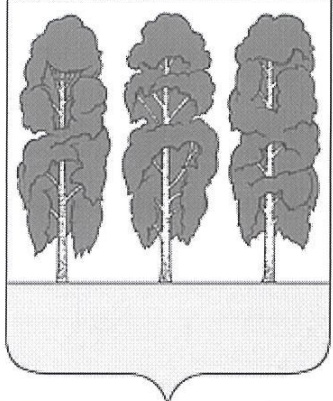
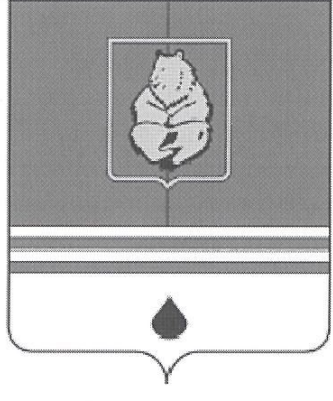




Ответ:

	1	2	3	4	5	6
5.1	Д	Ж	Г	Б	Е	В
5.2	Д	В	Г	Е	Б	Ж
5.3	В	Д	Ж	Б	Г	Е

16

Критерии оценивания: за каждый верный ответ - 1 балл, всего - 18 баллов.

Задание № 6. Внимательно рассмотрите изображения и выполните задания.

А		Б	
В		Г	
Д		Е	

6.1. Запишите названия населенных пунктов, гербы которых представлены на изображениях.

Ответ.

А	Б	В	Г	Д	Е
Москва	Херсонес	Псков	Жуковский	Ханты-Мансийск	Сурица

6.2. Выпишите букву, обозначающую герб населенного пункта, название которого в переводе означает «рыбное место»

Ответ. Б

6.3. Выпишите букву, обозначающую герб населенного пункта, который возник на месте Самаровского Яма – поселка ямщиков.

Ответ. Д

6.4. Выпишите букву, обозначающую герб населенного пункта, который был основан в Югре позже остальных

Ответ. Д

Критерии оценивания: за каждый верный ответ - 1 балл, всего – 9 баллов.

Задание № 7. Если вы согласны с утверждением, напишите «да», если не согласны – «нет». Внесите свои ответы в таблицу.

7.1. До крещения Руси в Киеве стояла христианская церковь Св. Ильи.

7.2. В битве на реке Калке русские войска возглавляли князья: Мстислав Старый, Мстислав Удатный, Мстислав Святославович и Даниил Романович.

7.3. Александр Невский перенес древнерусскую столицу из Владимира в Москву.

7.4. В 1575 – 1576 гг. великим князем Всея Руси был Симеон Бекбулатович.

7.5. В годы Смуты Второе ополчение против польских захватчиков было создано в Новгороде Великом.

Ответ:

7.1.	7.2.	7.3.	7.4.	7.5.
нет	да	нет	нет	да

Критерии оценивания: за каждый верный ответ - 1 балл, всего – 5 баллов.

Задание № 8. Рассмотрите карту и выполните предложенные задания



- 8.1. В походе русского войска, обозначенного в легенде карты, участвовал русский царь по имени _____ (напишите имя и прозвище царя).
- 8.2. Территории, обозначенные на карте штриховкой, были присоединены в 16 (напишите десятилетие и век присоединения).
- 8.3. Под цифрой «1», обозначенной на схеме, спрятан город _____ (напишите название города).
- 8.4. Строительство осадной крепости для взятия города, спрятанного на схеме под цифрой «1», руководил _____ (напишите имя и фамилию).
- 8.5. На территории, обозначенной на схеме штриховкой, обозначено название столицы бывшего «осколка Золотой орды», напишите год ее окончательного присоединения к Русскому государству.

Ответ:

8.1.	Иоанн Золотой
8.2.	в десятилетии 16 века
8.3.	
8.4.	
8.5.	

Критерии оценивания: за каждый верный ответ - 2 балла, всего – 10 баллов.

Задание № 9. Определите пропущенные в тексте названия, понятия, имена, даты, обозначенные порядковыми номерами. При необходимости при порядковых номерах даются пояснения о характере требуемой вставки. Необходимые вставки впишите под соответствующими номерами в помещённую ниже таблицу.

Для освобождения Москвы от интервентов с осени 1611 года в городе 1 (название города) стало собираться новое народное ополчение. Во главе его встали 2 и 3 (имена и фамилии руководителей ополчения). Длительное время находилось оно в городе 4 (название города), готовясь к решительным действиям. Лишь в августе 5 года ополчение приблизилось к столице. В это время к городу подошел отряд противника во главе с 6 (фамилия руководителя отряда противников). Во время боев к ополчению присоединились казаки из первого ополчения, во главе которого стоял 7 (фамилия руководителя казаков). После освобождения Москвы в 8 году состоялся 9 (название органа). На нем новым царем был избран 10 (имя и фамилия царя). Но военные действия на этом не закончились.

Ответ:

1.	Великий Новгород + 25.
2.	
3.	
4.	1612 вблизи Новгорода -
5.	1612 + 25.
6.	
7.	
8.	1613 + 25.
9.	Земский собор + 25.
10.	

Критерии оценивания: за каждый верный ответ - 2 балла, всего - 20 баллов.

Задания для участников 10 класса
Общее время выполнения заданий – 90 минут.
Максимальный балл за выполнение всех заданий – 83 балла.

Шифр Ш15 - ИСТ - 10 - 107

Дорогие ребята!

Вам предлагается выполнить 8 заданий. Внимательно прочитайте каждое задание, отвечайте вдумчиво, не торопитесь. Старайтесь давать полные, развернутые ответы. Задания можете выполнять в любой последовательности.

Желаем удачи!

Часть I. Выполните тестовые задания. Ответы необходимо записать в таблицу.

1. Какое событие произошло позже всех остальных?

- 1) Крещение Руси
- 2) Невская битва
- 3) Куликовская битва
- 4) Призвание варягов

2. Какой город хан Батый называл «злым городом»?

- 1) Москва
- 2) Новгород
- 3) Козельск
- 4) Торжок

3. От какого словосочетания произошло прозвище московского князя Ивана Даниловича?

- 1) «Народный заступник»
- 2) «Красивый человек»
- 3) «Кошель с деньгами»
- 4) «Гордец, властолюбец»

4. Что относится к преобразованиям Петра I?

- 1) Переход к летосчислению от Рождества Христова
- 2) Выход первой рукописной газеты «Куранты»
- 3) Отмена крепостного права
- 4) Отмена налога на соль

5. Укажите, кто из перечисленных исторических деятелей не предлагал и не организовывал подписание «кондиций» Анной Иоанновной?

- 1) А.Д. Меншиков
- 2) В.Л. Долгорукий
- 3) А.Г. Долгорукий
- 4) Д.М. Голицын

6. С каким правителем связано появление «Теории официальной народности»?

- 1) Александр I
- 2) Николай I
- 3) Николай II
- 4) Александр II

7. О ком идет речь в данном отрывке?

«По словам одного современника, он «тихими и кроткими словами» мог действовать на самые загубелые и ожесточённые сердца; очень часто примирял враждующих между собой князей, уговаривая их подчиняться великому князю московскому (например, ростовского князя, нижегородского, рязанского Олега и др.), благодаря чему ко времени Куликовской битвы почти все русские князья признали главенство Дмитрия Иоанновича».

- 1) митрополит Петр
- 2) Сергей Радонежский
- 3) Нил Сорский
- 4) митрополит Макарий

8. Укажите пропущенную в приведённом ряду фамилию государственного деятеля:

Витте С.Ю., Горемыкин И.Л., ..., Коковцов В.Н.

- 1) Булыгин А.Г.
- 2) Столыпин П.А.
- 3) Трепов Д.Ф.
- 4) Шмидт П.П.

Ответ:

1	2	3	4	5	6	7	8
3+	3+	1	2	2	4	2+	2+

Критерии оценивания: за каждый верный ответ – 1 балл, всего – 8 баллов.

Часть II

Установите соответствие.

А) Установите соответствия между именами политических деятелей и названиями реформ. В перечне справа есть лишний элемент. Запишите в таблицу выбранные цифры под соответствующими буквами.

Политический деятель	Реформы
А) Петр Аркадьевич	1. Введение виры по «Русской правде»
Б) Алексей Михайлович	2. Введение урочных лет
В) Екатерина Алексеевна	3. Указ «Об обязанных крестьянах»
Г) Федор Иванович	4. Издание Торгового устава
Д) Иван Васильевич	5. «Приговор царский о кормлениях и о службе»
Е) Николай Александрович	6. Создание Вольного экономического общества
	7. «Указ о выходе из крестьянской общины»

Ответ:

А	Б	В	Г	Д	Е
6	3	2	4 1	4	5

Критерии оценивания: за каждый верный ответ – 1 балл, всего – 6 баллов.

Б) Установите соответствия между фамилиями архитекторов и созданными ими сооружениями. Запишите в таблицу выбранные цифры под соответствующими буквами. В перечне справа есть лишний элемент.

А) Ф.-Б. Растрелли	1) Михайловский дворец
Б) В.И. Баженов	2) Зимний дворец
В) М.Ф. Казаков	3) Здание Музея изобразительных искусств в Москве
Г) К.И. Росси	4) Дом Пашкова
Д) О. Монферран	5) Таврический дворец
Е) В.О. Шервуд	6) здание Сената в Московском Кремле
Ж) Р.И. Клейн	7) Исаакиевский собор
	8) Здание Исторического музея в Москве

Ответ:

А	Б	В	Г	Д	Е	Ж
1	7	8	2	5	4 6	4

Критерии оценивания: за каждый верный ответ – 1 балл, всего – 7 баллов.

Часть III

Определите правильность предложенных исторических фактов (ДА/НЕТ). Ответ внесите в таблицу.

- 1) Первая Конституция России была принята в 1918 г.
- 2) Покровский собор на Красной площади воздвигнут в честь освобождения Москвы от польской интервенции.
- 3) Конституция была дарована Финляндии Александром I
- 4) Самой длительной войной в истории России стала Северная война.
- 5) Первые приказы появились при Иване III.

Ответ:

1	2	3	4	5
НЕТ	ДА	ДА +	НЕТ ДА +	НЕТ ДА +

Критерии оценивания: за каждый верный ответ – 2 балла, всего – 10 баллов.

65

Часть IV

Задание на знание истории региона. Ответьте на вопросы и запишите их в таблицу.

1. Имя исторического деятеля (1 балл)
2. Век, в котором он жил (1 балл)
3. Укажите, как деятельность каждого исторической личности связана с округом-ХМАО-Югра? (3 балла)



А)



Б)



В)

Ответ:

	Фамилия исторического деятеля	Век, в котором он жил	Как деятельность исторической личности связана с округом-ХМАО-Югра?
А	Иван Федоров IV (Романов) 1	XVI в 1	Закрыл эту дорогу по северу на восточной части континента (Сибирь). в частности отправил Ермака. 3
Б	Ермак Романович 1	XVI в 1	Был первым в экспедиция по северу восточной части континента (Сибирь) 3
В	Варлам Галимов 1	XX в 1	Первым открыл нефть в ХМАО и доказал, что ее тут много. 3

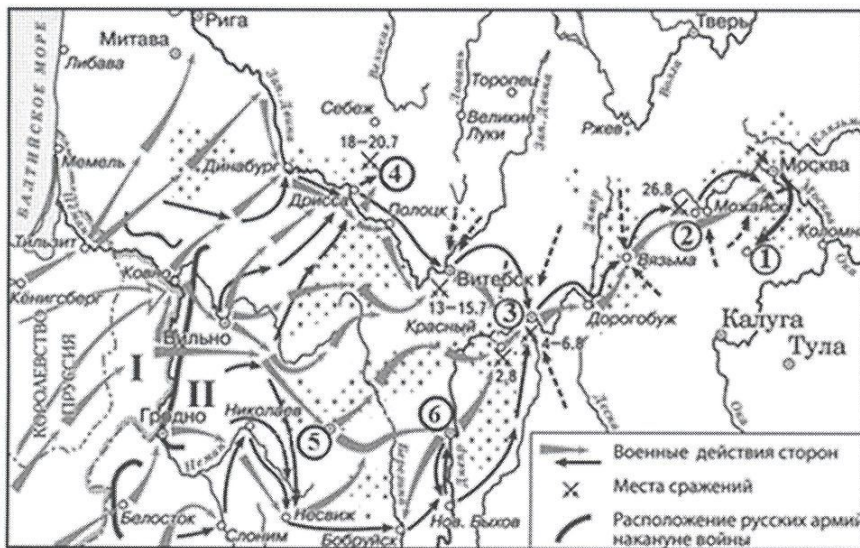
Критерии оценивания: всего – 15 баллов.

155.

Часть V.

Работа с картой.

Рассмотрите карту и выполните задания.



1. Назовите город, обозначенный на схеме цифрой 3. Название следует записать в именительном падеже с заглавной буквы без каких-либо знаков препинания.

Ответ: Минск

2. Укажите год, когда был подписан мирный договор с государством, бывшим основным противником России в ходе данной войны, утративший силу с началом военных действий, обозначенных на схеме.

Ответ: ~~1810~~ ~~1812~~ 1805

3. Укажите имя и номер российского монарха, в чьё правление шла война, события которой обозначены на схеме.

Ответ: Александр I + 15

4. Укажите фамилию военачальника, под командованием которого русские войска одержали победу в сражении, произошедшем у деревни, обозначенной на схеме цифрой 4. Фамилию следует указать в именительном падеже с заглавной буквы без каких-либо знаков препинания.

Ответ: Барклай де-Толли

5. Укажите год, когда в состав Российской империи вошёл город, обозначенный на схеме цифрой «5».

Ответ: 1812 г

Критерии оценивания: за каждый верный ответ – 1 балл, всего – 5 баллов.

6. Выберите верные утверждения и запишите их номера.

1) В городе, обозначенном цифрой 6, расположена крепость, построенная по проекту русского зодчего Фёдора Кона.

- 2) На схеме обозначен город, в котором расположен один из сооружённых в период существования Древнерусского государства соборов в честь Святой Софии Премудрости Божией.
- 3) В лагере, устроенном в селе, обозначенном на схеме цифрой 1, русская армия пребывала меньше месяца.
- 4) Армией, местоположение которой обозначено на схеме цифрой II, командовал П.И. Багратион.
- 5) В сражении, произошедшем у деревни, обозначенной на схеме цифрой 2, погиб М.Б. Барклай-де-Толли.
- 6) На момент сражения, произошедшего у деревни, обозначенной цифрой 4, главнокомандующим всеми русскими армиями являлся М.И. Кутузов.
- 7) На схему нанесено название города, который в 1758 г. был взят русскими войсками.

Ответ: 4, 2, 6, 1, 2, 5

Критерии оценивания: за каждый верный ответ – 2 балла, всего – 6 баллов.

Часть VI

Определите пропущенные в тексте названия, слова, имена, годы, обозначенные порядковыми номерами. При необходимости при порядковых номерах даются пояснения о характере требуемой вставки. Необходимые вставки впишите под соответствующими номерами в помещённую ниже таблицу. Ответ оформите в виде перечня элементов под соответствующими номерами

Вскоре после _____ (1-название бунта) бунта правительство решило приступить к составлению законодательного кодекса. Это решение невольно связывается в нашем представлении с беспорядками: такой давно не виданный факт, как открытый беспорядок в _____ (2-город), конечно, настойчивее и яснее всего показал необходимость улучшений в деле суда и законодательства. Так понимал дело и патриарх _____ (3-имя патриарха); он говорил, между прочим, следующее: "Всем ведомо, что собор был не по воле, боязни ради и междоусобия от всех черных людей, а не истинныя правды ради". После бунта в _____ (4-год) году в столице действительно чувствовали себя беспокойно.

С 1497 г. Московское государство управлялось _____ (5-название свода законов) Ивана III, частными царскими Указами и, наконец, обычаям, "пошлиною" государственной и земской. Свод законов был преимущественно законодательством о суде и лишь мимоходом касался вопросов государственного устройства и управления. Пробелы в нем постоянно пополнялись частными указами. Накопление их при царе _____ (6-имя царя) привело к составлению второго свода законов, "царского" в _____ (7-год составления) году. К делу составления кодекса были привлечены выборные люди, съехавшиеся на _____ (8-название учреждения) из 130 (если не более) городов. Этим выборным людям новое _____ (9-название документа) было "чтено", как выражается предисловие нового кодекса, а в последующим ими и одобрено.

Ответ:

1	Восстание Степана Разина	—
2.	Колодец	—
3.	Маурометт Макарий	—
4.	1546 г.	—
5.	Соборное Уложение	15
6.	Иван IV Грозный	15
7.	1549 г.	—
8.	Земский Собор	15
9.	Соборное уложение	15









35

Критерии оценивания: за каждый верный ответ – 1 балл, всего – 9 баллов.

Часть VII

Соотнесите приведённые описания оружия с их изображениями.

Обратите внимание на то, что в задании есть лишние изображения. Правильные ответы запишите в соответствующую таблицу.

1		2	
3		4	
5		6	
7		8	

А) Для разведчиков, танкистов, связистов, сапёров в 1943 г. был принят на вооружение пистолет пулемёт конструкции А.И. Судаева. Не уступая по боевым качествам своим предшественникам – ППД-40 и ППШ-41, он обладал ещё большей компактностью, меньшей массой, более высокой технологичностью изготовления. Так, например, на изготовление этого пистолета-пулемёта требовалось втрое меньше времени и в два раза меньше металла, чем на пистолет-пулемёт ППШ-41.

Б) Курская битва показала, что 76-мм танковые пушки, дававшие нашим КВ-1 и Т-34 неоспоримое превосходство в первые дни войны, уже недостаточно мощны для борьбы с «пантерами» и «тиграми». Поэтому в 1943 г. советские танкостроители подготовили для немцев главный и самый неприятный сюрприз – «танк прорыва», названный в честь Верховного главнокомандующего Вооружёнными Силами СССР. При массе 46 т он имел лобовую броню 120 мм, башни – 100 мм. Вооружение: 122-мм орудие, три пулемёта ДТ и пулемёт ДШК. Дизельный двигатель мощностью 520 л. с. позволял развивать скорость до 37 км/ч. Запас хода составлял 150 км. ... был самым мощным танком периода Второй мировой войны.

В) Обычно считают, что С.В. Ильюшину первому удалось решить задачу, над которой бились авиаконструкторы всего мира, – создать относительно лёгкий и в то же время весьма прочный бронированный самолёт, «летающий танк», как его называли немцы. Дело в том, что Ильюшин не стал обвешивать самолёт бронеплитами, как это делали другие, а использовал броню в качестве несущего элемента конструкции. Говоря иначе, теперь не броня навешивалась на самолёт, а к ней крепился мотор, кабина пилота и т. д. В общем, броня держала конструкцию и попутно защищала пилота и жизненно важные агрегаты от огня противника.

Г) В начале 1930-х гг. на вооружении командного состава Красной армии появился новый самозарядный пистолет. В его аббревиатуре указывалось как место производства – Тула, так и фамилия конструктора – Токарев. По сравнению с револьвером типа «наган» образца 1895 г. ... обладал большей скорострельностью, благодаря автоматизации процессов перезаряжания, а также наличию быстросменяемого магазина. Кроме того, плоский пистолет носить было удобнее, чем громоздкий револьвер.

Ответ:

Описание оружия	Номер изображения
А	3
Б	4
В	1
Г	2

Критерии оценивания: за каждый верный ответ – 1 балл, всего – 4 балла.

Часть VIII

Историческое сочинение.

Вам необходимо написать историческое сочинение об **ОДНОМ** из исторических процессов:

- 1) Крещение Руси
- 2) Азовские походы Петра I
- 3) Отмена крепостного права в 1861 году
- 4) Русско-японская война
- 5) «Хрущёвская оттепель»

В сочинении необходимо:

- указать не менее двух значимых событий (явлений, процессов), произошедших в рамках выбранного Вами процесса;
- назвать две исторические личности, деятельность которых связана с указанными Вами событиями (явлениями, процессами), произошедшими в рамках выбранного процесса, и, используя знание исторических фактов, охарактеризовать роли названных Вами личностей в этих событиях (явлениях, процессах);

Внимание!

При характеристике роли каждой названной Вами личности необходимо указать конкретные действия этой личности, в значительной степени повлиявшие на ход и (или) результат указанных событий (процессов, явлений).

– указать не менее двух причинно-следственных связей, характеризующих причины возникновения указанных Вами событий (явлений, процессов), произошедших в рамках выбранного процесса;

– используя знание исторических фактов, указать значение (последствие) выбранного Вами процесса для истории России.

В ходе изложения необходимо корректно использовать исторические термины, понятия, относящиеся к выбранному Вами процессу.

Критерии оценивания: всего – 13 баллов.

Ответ:

Историческое сочинение

Благодаря чему люди в нашей стране свободны? Почему мы не подчинены другим людям? Кто тот самый герой, который освободил население от тяжёлого ярма?

Александр II при своём правлении провёл ряд важных реформ. Многие из них были не оправданы и недовольны, например, когда он ввёл ясу продал за малую сумму, но именно он провёл самую важную, ключевую и долгожданную – крестьянскую реформу в 1861 году. Во время правления Александр II старался не вступать в конфликты с другими странами, но так в стране был кризис, ещё гуще была пелена в эпоху «великой» войны. В качестве противника он выбрал Японию, но во время России проиграла сражение, население безусловно это не понравилось, но теперь оно стало свободным.

Если при Александре I в стране было очень напряжённо, было много покушений, бунтов, то при Александре II их стало меньше, но после отмены крепостного права люди не знали, что им делать. Куда идти, где работать, как жить. И тогда царь провёл ещё одну важную реформу в пользу своего населения. Он разрешил им выкупить земли и часть бывшего двора (хозяйств) за часть суммы, которое заплатит государство и за работу, в течение которой крестьянами сами накопили на покупку.

Безусловно, отмена крепостного права – важное событие в истории России. В стране пошли перемены с целью выйти в лидирующие позиции в мире. Спустя столетие с момента крестьянской реформы у страны это получилось.

Спасибо за участие!

05