

*Всероссийская олимпиада школьников  
по Основам безопасности жизнедеятельности  
2022–2023 учебный год  
Школьный этап*

**Задания для участников 10–11 классов**

Общее время выполнения заданий – 45 минут.

Максимальный балл за выполнение всех заданий – 100 баллов.

**ШИФР** 415-ОБЖ-11-102

**Дорогие ребята!**

При выполнении заданий Вам предстоит выполнить определённую работу, которую лучше организовать следующим образом:

- внимательно прочитайте задание;
- если Вы отвечаете на теоретический вопрос или решаете ситуационную задачу, обдумайте и сформулируйте конкретный ответ (ответ должен быть кратким, его содержание требуется вписать в отведённое поле, писать следует чётко и разборчиво);
- при ответе на тесты определите верный ответ и обведите кружком, букву (буквы), соответствующую (-ие) выбранному Вами ответу.

За каждый правильный ответ Вы можете получить определённое членами жюри количество баллов, не выше указанной максимальной оценки.

Сумма набранных баллов за все решённые вопросы в двух форматах – итог Вашей работы. Максимальное количество баллов – 100.

Задания считаются выполненными, если Вы вовремя сдали их членам жюри.

**Желаем удачи!**

## Тестовые задания

Определите один правильный ответ, обведите его кружком.

За правильный ответ начисляется 2 балла.

1. Водитель –
- ✓  а) лицо, управляющее каким-либо транспортным средством  
2 б) лицо, управляющее только автомобилем  
в) лицо, управляющее только автомобилем и автобусом  
г) лицо, управляющее только мотоциклом, автомобилем и автобусом
2. В каком направлении нумеруются квартальные столбы, установленные на пересечении лесных просек для указания номеров стандартных лесных кварталов?
- а) с востока на юг  
б) с юга на запад  
-  в) с юга на север  
г) с запада на восток
3. Что присваивается по окончании подготовки в ДОСААФ?
- а) квалификация  
б) военно-учётная специальность  
в) должность специалиста  
г) воинское звание
4. Какому должностному лицу предоставляется право заключать с военнослужащим первый контракт от лица Минобороны России?
- а) начальнику военного комиссариата  
б) командиру учебной воинской части  
в) командующему видом войск  
г) военному комиссару
5. Через какие органы и системы могут проникать аварийнохимические опасные вещества в организм человека?
- ✓  а) органы дыхания, кожные покровы, слизистые оболочки, желудочно-кишечный тракт  
2 б) органы осязания, волосяные покровы, кишечник, кровеносная система  
в) опорно-двигательная система, мозжечок, головной мозг, слизистая оболочка  
г) желудочно-кишечный тракт, кожные покровы, кровеносная система, зрительная система
6. Какие группы опасных природных явлений наиболее распространены в Российской Федерации?
- б) чрезвычайные, местные, ситуационные, ландшафтные, биологические  
а) космические, подземные, надземные, вулканические, снежные  
в) геологические, метеорологические, гидрологические, природные  
г) океанические, атмосферные, динамические, визуальные, медицинские
- 7) Обнаружена закладка из двух гранат РГД -5 и Ф-1. Установите минимальный радиус зоны эвакуации.
- ✓  а) 250 м  
б) 50 м  
2 в) 230 м  
г)  200 м

8. Отбор кандидатов на военную службу по контракту включает три этапа:

- а) начальный, углублённый, заключительный
- б) начальный, углублённый, специальный
- в) предварительный, начальный, углублённый
- г) начальный, предварительный, углублённый

9. Какое воинское звание было у Ю.А. Гагарина во время первого в мире полёта в космос?

- а) старший лейтенант
- б) лейтенант
- в) майор
- г) капитан

10. Укажите общие признаки ушиба, перелома и вывиха.

- а) боль, отёк, деформация конечности
- б) боль, отёк, кровоизлияние, нарушение функции конечности
- в) боль, отёк, кровоизлияние, изменение длины конечности
- г) отёк, боль, пружинящее сопротивление при попытке пассивного движения

**Определите все правильные ответы.**

*За каждый правильный ответ начисляется 2 балла.*

11. При движении организованных пеших колонн по проезжей части в тёмное время суток спереди и сзади колонны с левой стороны должны находиться сопровождающие с включёнными фонарями

- а) спереди – белого цвета
- б) сзади – оранжевого цвета
- в) сзади – красного цвета
- г) сзади – жёлтого цвета
- д) спереди – зелёного цвета

12. Какую форму могут иметь знаки безопасности?

- а) овальную
- б) прямоугольную
- в) полукруг
- г) конусообразную
- д) круглую

13. К основным принципам противодействия экстремистской деятельности относятся

- а) гласность
- б) приоритет мер, направленных на ликвидацию последствий экстремистской деятельности
- в) приоритет обеспечения безопасности Российской Федерации
- г) конфиденциальность
- д) приоритет обеспечения безопасности гражданина Российской Федерации

14. Для каких целей предназначены противорадиационные укрытия?

- а) для защиты от проникающей радиации, излучения в условиях радиоактивного заражения, светового излучения, ударной волны ядерного взрыва
- б) для защиты от попадания радиоактивных веществ в органы дыхания, на кожу и одежду, от попадания на кожу и одежду капель отравляющих веществ и бактериальных аэрозолей
- в) для защиты от попадания химически опасных веществ, от природных явлений, гидрологических явлений, космического излучения,
- г) для защиты населения и производительных сил страны от оружия массового поражения, а также при стихийных бедствиях, производственных авариях
- д) для защиты от проникающей химической реакции, излучения в условиях химического заражения, светового излучения, ударной волны ядерного взрыва.



- ✓ 15. Выберите из предложенных вариантов зоны действия локальных систем оповещения?
- а) в районах размещения ядерно- и радиационно-опасных объектов
  - б) в районах размещения медико-опасных объектов
  - в) в районах размещения природно-опасных объектов
  - г) в районах размещения химически опасных объектов
  - д) в зонах отчуждения атомных электростанций
- 2

- ✓ 16. Обязательная подготовка граждан к военной службе предусматривает:
- а) получение начальных знаний в области обороны
  - б) подготовку в военных комиссариатах
  - в) подготовку по основам военной службы в образовательных учреждениях и в учебных пунктах
  - г) подготовку в учебных пунктах
  - д) подготовку на сборах
- 2

- ✓ 17. Добровольная подготовка граждан к военной службе предусматривает:
- а) самостоятельное получение начальных знаний в области обороны
  - б) занятия военно-прикладными видами спорта и обучение по дополнительным программам в школе
  - в) участие в олимпиадах по основам безопасности жизнедеятельности
  - г) участие в туристических пеших походах
  - д) обучение в учебных центрах и в образовательных учреждениях по программам подготовки офицеров запаса
- 2

18. Какие из представленных ниже правил оказания первой помощи при ранении глаз являются верными?
- а) промыть повреждённый глаз водой
  - б) нельзя промывать повреждённый глаз водой
  - в) наложить стерильную повязку на повреждённый глаз
  - г) наложить стерильную повязку на два глаза
  - д) закапать в повреждённый глаз антибактериальные капли

19. Какие из представленных ниже правил оказания первой помощи при ранении брюшной полости являются верными?
- а) выступающие фрагменты внутренних органов накрыть чистой тканью, приложить холод к животу
  - б) вправить выпавшие из раны внутренние органы
  - в) дать обезболивающее средство
  - г) дать обильное теплое питьё
  - д) не давать обезболивающее средство и питьё
- 2

20. Укажите приёмы восстановления проходимости дыхательных путей:
- а) приподнимание головы
  - б) запрокидывание головы
  - в) выдвигание нижней челюсти
  - г) использование лицевой маски
  - д) использование пластиковой плёнки с клапаном одностороннего движения воздуха
- 2

16

Задание 1 [12 баллов] Укажите стрелками соответствие между знаками и их названиями



Рисунок 1

Внимание. Электромагнитное поле.

N3

✓



Рисунок 2

Запрещается разбрызгивать воду.

N2

✓



Рисунок 3

Запрещается использовать в качестве питьевой воды.

N1

✓



Рисунок 4

Осторожно. Вредные для здоровья  
аллергические (раздражающие) вещества.

N5

✓




Рисунок 5

Осторожно. Биологическая опасность (Инфекционные вещества).

✓  
1/4 ✓




Рисунок 6

Внимание. Магнитное поле.

NG

✓  
12

**Задание 2 [10 баллов]** Укажите знаком «+» в крайнем левом или крайнем правом столбце, какие из перечисленных характеристик относятся к манёвру силами воинского подразделения, а какие к манёвру средствами воинского подразделения

Ответ (маневр силами)	Вид манёвра	Ответ (маневр средствами)
+	сосредоточение огня	
	обход	+
+	распределение огня	
	охват	+
+	перенос огня	

—  
—  
—  
—  
—

**Задание 3 [8 баллов]** Вывихи – стойкое изменение правильных анатомических взаимоотношений (конгруэнтности) суставных поверхностей, сопровождающееся нарушением функции поражённого сустава.

Для вывиха характерны определённые признаки, которые можно разделить на достоверные и косвенные (вероятные) признаки.

Запишите цифры нижеперечисленных признаков вывиха в соответствующие графы таблицы.

Признаки вывиха:

- а) отёк;
- б) деформация конечности в области сустава;
- в) боль;
- г) нарушение функции конечности;
- д) изменение длины конечности;
- е) вынужденное положение конечности;
- ё) пружинящее сопротивление при пассивных движениях;
- ж) кровоизлияние.

Ответ

Достоверные признаки	Косвенные признаки
а      в      —	ж      —
д      —	е      —
б      —	ё      —
г      —	г      —

Задание 4 [10 баллов] Опишите свои действия, если Ваш дом (квартира) оказался вблизи эпицентра взрыва при совершении террористического акта

- а) осторожно обойти все помещения, чтобы проверить, нет ли утечек воды и газа, возгораний и т. д.;
- б) ни в коем случае не зажигать в темноте спички или свечи — пользоваться фонариком;
- в) немедленно отключить все электроприборы, погасить газ на плите и т. д.;
- г) обзвонить своих родных и близких и кратко сообщить о своём местонахождении, самочувствии и т.д.;
- д) проверить, как обстоят дела у соседей — им может понадобиться помощь.

В, Б, А, Г  
2 2 2 2

18

325.





*Всероссийская олимпиада школьников  
по Основам безопасности жизнедеятельности  
2022–2023 учебный год  
Школьный этап*

**Задания для участников 10–11 классов**

Общее время выполнения заданий – 45 минут.

Максимальный балл за выполнение всех заданий – 100 баллов.

**ШИФР** 115 - ОБЖ - 11 - 103

**Дорогие ребята!**

При выполнении заданий Вам предстоит выполнить определённую работу, которую лучше организовать следующим образом:

- внимательно прочитайте задание;
- если Вы отвечаете на теоретический вопрос или решаете ситуационную задачу, обдумайте и сформулируйте конкретный ответ (ответ должен быть кратким, его содержание требуется вписать в отведённое поле, писать следует чётко и разборчиво);
- при ответе на тесты определите верный ответ и обведите кружком, букву (буквы), соответствующую (-ие) выбранному Вами ответу.

За каждый правильный ответ Вы можете получить определённое членами жюри количество баллов, не выше указанной максимальной оценки.

Сумма набранных баллов за все решённые вопросы в двух форматах – итог Вашей работы. Максимальное количество баллов – 100.

Задания считаются выполненными, если Вы вовремя сдали их членам жюри.

**Желаем удачи!**

## Тестовые задания

Определите один правильный ответ, обведите его кружком.

За правильный ответ начисляется 2 балла.

1. Водитель –

- 0 а) лицо, управляющее каким-либо транспортным средством  
б) лицо, управляющее только автомобилем  
в) лицо, управляющее только автомобилем и автобусом  
— г) лицо, управляющее только мотоциклом, автомобилем и автобусом

2. В каком направлении нумеруются квартальные столбы, установленные на пересечении лесных просек для указания номеров стандартных лесных кварталов?

- 0 а) с востока на юг  
б) с юга на запад  
— в) с юга на север  
г) с запада на восток

3. Что присваивается по окончании подготовки в ДОСААФ?

- ✓ 2 а) квалификация  
б) военно-учётная специальность  
в) должность специалиста  
г) воинское звание

4. Какому должностному лицу предоставляется право заключать с военнослужащим первый контракт от лица Минобороны России?

- 0 а) начальнику военного комиссариата  
б) командиру учебной воинской части  
в) командующему видом войск  
г) военному комиссару

5. Через какие органы и системы могут проникать аварийнохимические опасные вещества в организм человека?

- 0 — а) органы дыхания, кожные покровы, слизистые оболочки, желудочно-кишечный тракт  
б) органы осязания, волосяные покровы, кишечник, кровеносная система  
в) опорно-двигательная система, мозжечок, головной мозг, слизистая оболочка  
г) желудочно-кишечный тракт, кожные покровы, кровеносная система, зрительная система

6. Какие группы опасных природных явлений наиболее распространены в Российской Федерации?

- 0 а) космические, подземные, надземные, вулканические, снежные  
б) чрезвычайные, местные, ситуационные, ландшафтные, биологические  
в) геологические, метеорологические, гидрологические, природные  
г) океанические, атмосферные, динамические, визуальные, медицинские

7) Обнаружена закладка из двух гранат РГД -5 и Ф-1. Установите минимальный радиус зоны эвакуации.

- 0 — а) 250 м  
б) 50 м  
в) 230 м  
г) 200 м

8. Отбор кандидатов на военную службу по контракту включает три этапа:

- а) начальный, углублённый, заключительный
- б) начальный, углублённый, специальный
- в) предварительный, начальный, углублённый
- г) начальный, предварительный, углублённый

9. Какое воинское звание было у Ю.А. Гагарина во время первого в мире полёта в космос?

- а) старший лейтенант
- б) лейтенант
- в) майор
- г) капитан

10. Укажите общие признаки ушиба, перелома и вывиха.

- а) боль, отёк, деформация конечности
- б) боль, отёк, кровоизлияние, нарушение функции конечности
- в) боль, отёк, кровоизлияние, изменение длины конечности
- г) отёк, боль, пружинящее сопротивление при попытке пассивного движения

**Определите все правильные ответы.**

*За каждый правильный ответ начисляется 2 балла.*

11. При движении организованных пеших колонн по проезжей части в тёмное время суток спереди и сзади колонны с левой стороны должны находиться сопровождающие с включёнными фонарями

- а) спереди – белого цвета
- б) сзади – оранжевого цвета
- в) сзади – красного цвета
- г) сзади – жёлтого цвета
- д) спереди – зелёного цвета

12. Какую форму могут иметь знаки безопасности?

- а) овальную
- б) прямоугольную
- в) полукруг
- г) конусообразную
- д) круглую

13. К основным принципам противодействия экстремистской деятельности относятся

- а) гласность
- б) приоритет мер, направленных на ликвидацию последствий экстремистской деятельности
- в) приоритет обеспечения безопасности Российской Федерации
- г) конфиденциальность
- д) приоритет обеспечения безопасности гражданина Российской Федерации

14. Для каких целей предназначены противорадиационные укрытия?

- а) для защиты от проникающей радиации, излучения в условиях радиоактивного заражения, светового излучения, ударной волны ядерного взрыва
- б) для защиты от попадания радиоактивных веществ в органы дыхания, на кожу и одежду, от попадания на кожу и одежду капель отравляющих веществ и бактериальных аэрозолей
- в) для защиты от попадания химически опасных веществ, от природных явлений, гидрологических явлений, космического излучения,
- г) для защиты населения и производительных сил страны от оружия массового поражения, а также при стихийных бедствиях, производственных авариях
- д) для защиты от проникающей химической реакции, излучения в условиях химического заражения, светового излучения, ударной волны ядерного взрыва.



15. Выберите из предложенных вариантов зоны действия локальных систем оповещения?
- ✓ а) в районах размещения ядерно- и радиационно-опасных объектов
  - б) в районах размещения медико-опасных объектов
  - в) в районах размещения природно-опасных объектов
  - г) в районах размещения химически опасных объектов
  - д) в зонах отчуждения атомных электростанций
16. Обязательная подготовка граждан к военной службе предусматривает:
- а) получение начальных знаний в области обороны
  - ✓ б) подготовку в военных комиссариатах
  - в) подготовку по основам военной службы в образовательных учреждениях и в учебных пунктах
  - г) подготовку в учебных пунктах
  - д) подготовку на сборах
17. Добровольная подготовка граждан к военной службе предусматривает:
- а) самостоятельное получение начальных знаний в области обороны
  - б) занятие военно-прикладными видами спорта и обучение по дополнительным программам в школе
  - в) участие в олимпиадах по основам безопасности жизнедеятельности
  - г) участие в туристических пеших походах
  - ✓ д) обучение в учебных центрах и в образовательных учреждениях по программам подготовки офицеров запаса
18. Какие из представленных ниже правил оказания первой помощи при ранении глаз являются верными?
- а) промыть повреждённый глаз водой
  - б) нельзя промывать повреждённый глаз водой
  - в) наложить стерильную повязку на повреждённый глаз
  - г) наложить стерильную повязку на два глаза
  - д) закапать в повреждённый глаз антибактериальные капли
19. Какие из представленных ниже правил оказания первой помощи при ранении брюшной полости являются верными?
- ✓ а) выступающие фрагменты внутренних органов накрыть чистой тканью, приложить холод к животу
  - б) вправить выпавшие из раны внутренние органы
  - в) дать обезболивающее средство
  - г) дать обильное теплое питье
  - д) не давать обезболивающее средство и питье
20. Укажите приёмы восстановления проходимости дыхательных путей:
- а) приподнимание головы
  - б) запрокидывание головы
  - в) выдвижение нижней челюсти
  - г) использование лицевой маски
  - д) использование пластиковой плёнки с клапаном одностороннего движения воздуха



Задание 1 [12 баллов] Укажите стрелками соответствие между знаками и их названиями



Рисунок 1

Внимание. Электромагнитное поле.

2  
✓



Рисунок 2

Запрещается разбрызгивать воду.

2  
✓



Рисунок 3

Запрещается использовать в качестве питьевой воды.

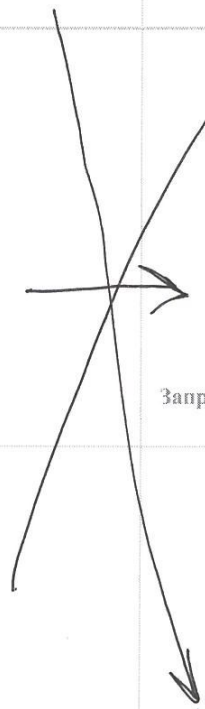
2  
✓



Рисунок 4

Осторожно. Вредные для здоровья  
аллергические (раздражающие) вещества.

✓






Рисунок 5

Осторожно. Биологическая опасность (Инфекционные вещества).




Рисунок 6

Внимание. Магнитное поле.

**Задание 2 [10 баллов]** Укажите знаком «+» в крайнем левом или крайнем правом столбце, какие из перечисленных характеристик относятся к манёвру силами воинского подразделения, а какие к манёвру средствами воинского подразделения

Ответ (маневр силами)	Вид манёвра	Ответ (маневр средствами)
+	сосредоточение огня	
	обход	+
+	распределение огня	
	охват	+
+	перенос огня	

**Задание 3 [8 баллов]** Вывихи – стойкое изменение правильных анатомических взаимоотношений (конгруэнтности) суставных поверхностей, сопровождающееся нарушением функции поражённого сустава.

Для вывиха характерны определённые признаки, которые можно разделить на достоверные и косвенные (вероятные) признаки.

Запишите цифры нижеперечисленных признаков вывиха в соответствующие графы таблицы.

Признаки вывиха:

- а) отёк;
- б) деформация конечности в области сустава;
- в) боль;
- г) нарушение функции конечности;
- д) изменение длины конечности;
- е) вынужденное положение конечности;
- ё) пружинящее сопротивление при пассивных движениях;
- ж) кровоизлияние.

1

Ответ

Достоверные признаки	Косвенные признаки
А	А
В	ё
Г	ж
Б	е

—  
—  
—  
—

0

Задание 4 [10 баллов] Опишите свои действия, если Ваш дом (квартира) оказался вблизи эпицентра взрыва при совершении террористического акта

✓

- а) осторожно обойти все помещения, чтобы проверить, нет ли утечек воды и газа, возгораний и т. д.;
- б) ни в коем случае не зажигать в темноте спички или свечи — пользоваться фонариком;
- в) немедленно отключить все электроприборы, погасить газ на плите и т. д.;
- г) обзвонить своих родных и близких и кратко сообщить о своём местонахождении, самочувствии и т.д.;
- д) проверить, как обстоят дела у соседей — им может понадобиться помощь.

10

385

