

ВСЕРОССИЙСКАЯ ОЛИМПИАДА ШКОЛЬНИКОВ
 ОБЩЕСТВОЗНАНИЕ. 2024–2025 уч. г.
 ШКОЛЬНЫЙ ЭТАП. 11 КЛАСС

Задания

Продолжительность – 2 академических часа (90 минут)
 Максимальный балл за всю работу – 100.

ПЕРВЫЙ ТУР

Задание 1. Установите истинность или ложность суждений.

Обозначьте «да» истинные суждения, «нет» – ложные. Ответы внесите в таблицу.

- 1.1. В современном мире более не существует абсолютных монархий.
- 1.2. Единственным источником власти в РФ является ее многонациональный народ.
- 1.3. Основным компонентом любой социальной роли является социальная санкция, следующая в случае её невыполнения.
- 1.4. Человек может играть несколько социальных ролей одновременно.
- 1.5. Товарами Гиффена называются товары, спрос на которые растёт даже при повышении цены на них.
- 1.6. От непредвиденного увеличения инфляции страдают заемщики капитала.
- 1.7. Вертикальная мобильность может осуществляться вопреки желанию человека.
- 1.8. Деятельность движения суфражисток является примером проявления гражданского общества.
- 1.9. В соответствии с прагматической концепцией истины, истина представляет собой результат соглашения между учеными.
- 1.10. В рыночной экономике невозможна ситуация, когда какой-либо товар продается по цене, меньшей, чем издержки его производства.

Ответ:

1.1	1.2	1.3	1.4	1.5	1.6	1.7	1.8	1.9	1.10
нет +	да +	нет да	да +	нет	да -	да +	нет да +	нет +	да да

По 1 баллу за каждый верный ответ. Максимум за задание – 10 баллов.

Задание 2. Из приведенного перечня выделите полномочия, НЕ относящиеся к ведению Государственной Думы Федерального собрания РФ:

- А) осуществление помилования;
- Б) решение вопроса о доверии Правительству РФ;
- В) назначение выборов Президента РФ;
- Г) принятие федеральных законов;
- Д) утверждение указа Президента РФ о введении чрезвычайного положения;
- Е) назначение на должность и освобождение от должности Председателя Центрального банка РФ;
- Ж) утверждение изменения границ между субъектами РФ;
- З) назначение на должность и освобождение от должности Председателя Счетной палаты и половины от общего числа аудиторов Счетной палаты по представлению Президента Российской Федерации;
- И) утверждение по представлению президента Российской Федерации кандидатуры Председателя правительства Российской Федерации;
- К) назначение на должность и освобождение от должности Уполномоченного по правам человека.

Ответ:

По 1 баллу за каждый верный ответ. Максимум за задание – 5 баллов.

Задание 3. Замените выделенный курсивом фрагмент фразы соответствующим ему обществоведческим термином.

- А) В современной экономике особое значение приобретает деятельность *небольших предприятий, специализирующихся на создании и внедрении в производство новейших образцов техники и технологий, сопряженная с серьезным экономическим риском.*
- Б) Принято считать, что начало научному исследованию *процесса возникновения и развития человека как социального существа* было положено в XIX веке.
- В) Наличие развитой системы *целостного представления о мире и месте в нем человека, а также обусловленных этими представлениями убеждений, идеалов и ценностей* свидетельствует о зрелости личности.

Ответ:

- А) _____
- Б) социализация _____

Максимум за задание – 8 баллов.

Задание 5. Каждый человек живущий в большом городе должен знать Правила дорожного движения. Выберите (перечеркните крестом) юридически верное завершение утверждения:

Утверждение	Возможные варианты завершения		
<p>Установленный факт употребления водителем вызывающих алкогольное опьянение веществ определяется наличием в его организме абсолютного этилового спирта в концентрации, превышающей:</p>	<p>0,10 миллиграмма на один литр выдыхаемого воздуха</p>	<p>0,16 миллиграмма на один литр выдыхаемого воздуха</p> <p style="text-align: right;"><i>ds</i> (✓)</p>	<p>0,25 миллиграмма на один литр выдыхаемого воздуха</p>
<p>Владелец транспортного средства обязан возместить вред, причинённый этим транспортным средством, если не докажет, что вред возник:</p>	<p>исключительно вследствие непреодолимой силы</p>	<p>исключительно вследствие умысла потерпевшего</p>	<p>вследствие непреодолимой силы или умысла потерпевшего</p> <p style="text-align: right;"><i>d</i> (✓)</p>
<p>Административная ответственность установлена за нарушение Правил дорожного движения или правил эксплуатации транспортного средства, повлекшее причинение:</p>	<p>легкого вреда здоровью человека либо незначительного материального ущерба</p> <p style="text-align: right;"><i>d</i> (✓)</p>	<p>легкого или средней тяжести вреда здоровью человека</p>	<p>легкого или средней тяжести вреда здоровью человека либо материального ущерба</p>
<p>Уголовная ответственность предусмотрена за управление транспортным средством, не повлекшее причинение тяжкого вреда здоровью или смерть человека, лицом, находящимся в состоянии опьянения, если оно ранее было подвергнуто административному наказанию:</p>	<p>за управление транспортным средством в состоянии опьянения</p>	<p>за невыполнение законного требования уполномоченного лица о прохождении медицинского освидетельствования на состояние опьянения</p>	<p>за совершение любого из перечисленных правонарушений</p> <p style="text-align: right;"><i>d</i> (✓)</p>

За оставление водителем в нарушение ПДД места дорожно-транспортного происшествия, участником которого он является, ему грозит:	только штраф в размере от 1000 до 1500 рублей	штраф в размере от 1000 до 1500 рублей или лишение права управления транспортными средствами на срок от 1 года до 1,5 лет	лишение права управления транспортными средствами на срок от 1 года до 1,5 лет или административный арест на срок до 15 суток <input checked="" type="checkbox"/>
--	---	---	---

Каждый правильный ответ 2 балла.

Максимум за задание – 10 баллов.

Задание 6. Решите экономическую задачу.

Бизнесмен Иван Иванович планирует летний отпуск. Из всех имевшихся альтернатив он остановился на двух: отправиться на курорты Краснодарского края или отказаться от отдыха и поработать. Стоимость билетов на море и обратно составляет суммарно 1300 денег, стоимость проживания в отеле по тарифу «Всё включено» – 2000 денег. Иных расходов в отпуске Иван Иванович нести не планирует. Если же бизнесмен никуда не полетит, а останется работать, то его жизнь продолжит идти своим чередом: в среднем Иван Иванович в день зарабатывает 300 денег, а тратит – около 100 денег.

Но он устал за этот год и отдых пойдёт бизнесмену на пользу: он наберётся сил и сможет работать эффективнее. Это позволит ему в следующем году увеличить свой совокупный доход на 7000 денег.

Отпуск Ивана Ивановича продлится 18 дней. Чему будет равна упущенная выгода бизнесмена за год в деньгах, если он решит НЕ ехать в отпуск?

Ответ: 3700 денег

Решение: есть два исхода:

- 1) бизнесмен не едет в отпуск и продолжает работать в прежнем режиме, тогда его доход составит Π денег за год.
- 2) бизнесмен едет в отпуск и возвращается из него отдохнувшим и готовым усердно работать, это позволит ему в следующем году заработать $\Pi + 7000$ денег.

Очевидно, что упущенная выгода составит 7000 денег, но мы не учли оплату билетов туда и обратно + стоимость проживания в отпуске, это суммарно составит $(1300 + 2000)$ 3300 денег. $\Rightarrow 7000 - 3300 = 3700$

3700 денег есть сумма упущенной выгоды.

3600 - потратит за 18 дней "отпуска"	- 7000	→ 4700	→ 3700
4600 - потратит на отель	1300	3300	3300
за год + 7000, за год	5700	000	7000





1300
+ 1300
= 2600
4600





300
18
5400
1600
2000
3600

Максимальная оценка за задание – 4 балла, верный ответ без решения оценивается в 2 балла.

Задание 7. Соотнесите названия международных организаций и их эмблемы.

1. Всемирная организация интеллектуальной собственности
2. Шанхайская организация сотрудничества
3. Организация стран - экспортёров нефти
4. Международное агентство по атомной энергии
5. Всемирная организация здравоохранения
6. Всемирная метеорологическая организация
7. Совет государств Балтийского моря
8. Организация Договора о коллективной безопасности
9. Организация по безопасности и сотрудничеству в Европе
10. Содружество Независимых Государств

А. 	Б. 
В. 	Г. 

<p>Д.</p> 	<p>Е.</p> 
<p>Ж.</p> 	<p>З.</p> 
<p>И.</p> 	<p>К.</p> 

Ответ:

1	2	3	4	5	6	7	8	9	10

По 1 баллу за каждый верный ответ. Максимум за задание – 10 баллов.

Задание 8. Вставьте пропущенное слово

А. Философское учение, утверждающее опыт в качестве приоритетного способа получения знаний - ...

Б. Отношения между усыновителем и усыновлённым, бабушкой и внуками регулируются нормами ... права.

В. Нормы ... состоят из гипотезы, диспозиции и санкции и подразделяются на императивные и диспозитивные.

Г. Форма социальной общности, когда люди, её составляющие, проживают вне страны происхождения, но сохраняют идентичность со своей Родиной, образуют сплочённые и устойчивые этнические группы, называется ...

Д. Социальная роль представляет собой динамическую характеристику ..., особенности исполнения предписываемых ... действий конкретным человеком.

Е. Наиболее часто встречающийся в конкретном обществе тип личности обозначается термином ... личность.

Ж. Сознание является непосредственным продолжением и наиболее сложной формой проявления такого всеобщего свойства материи как ...

З. «... мира» - это сложившаяся на конкретном этапе развития человечества совокупность представлений о структуре окружающей человека действительности, способах её функционирования и развития.

И. Карл Маркс считал, что ... стоимость – стоимость, создаваемая неоплаченным трудом рабочего сверх стоимости его рабочей силы и безвозмездно присваиваемая капиталистом.

К. Смещение кривой производственных возможностей ... наблюдается в период экономических кризисов, спадов производства, структурных кризисов.

Ответ:

А. _____

Б. _____

В. _____

Г. _____

Д. _____

Е. _____

Ж. _____

З. _____

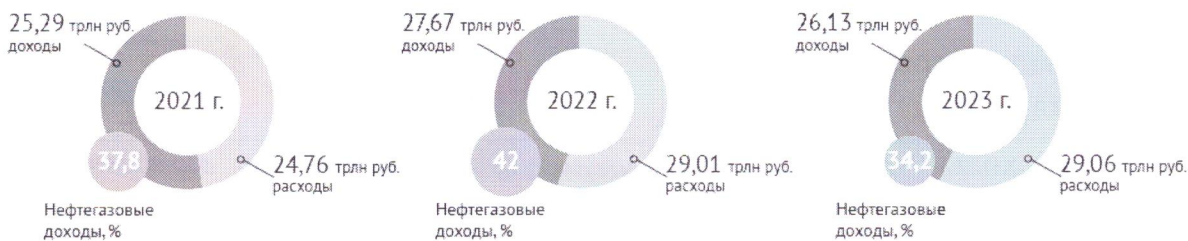
И. _____

К. _____

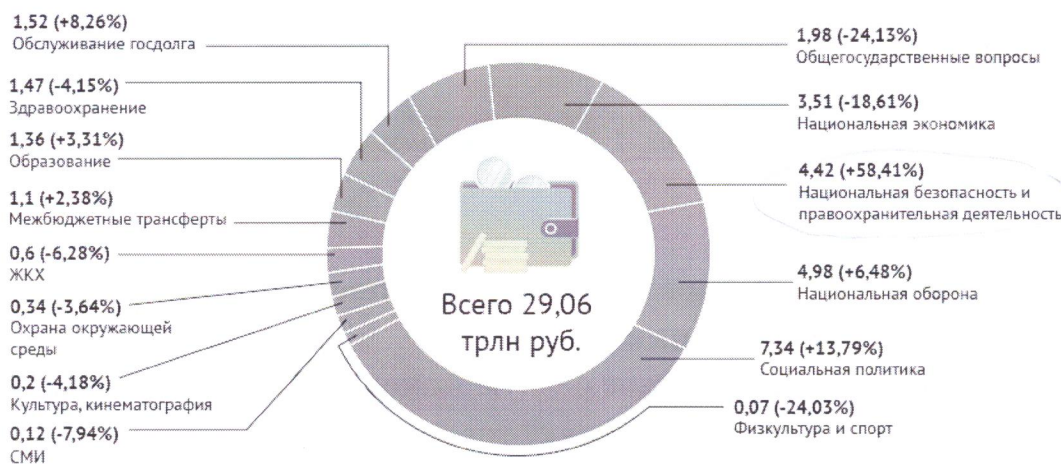
По 1 баллу за верный ответ, всего 10 баллов.

Задание 9. Проанализируйте данные инфорграфики, предоставленные крупнейшей еженедельной общественно-политической газетой России. На их основе оцените верность представленных в таблице утверждений. Свой ответ кратко обоснуйте.

Проект федерального бюджета-2023 в цифрах



Какие будут расходы в 2023 г. (трлн руб., % по сравнению с 2022 г.)



Источник: Проект бюджета на 2023 год и плановый период 2024 и 2025 годов

Аргументы и факты /t.me/aifonline /aif_ru /vb.me/aif /aifru

Утверждение	Верно или нет	Обоснование
ФБГУ «Российская газета» опубликовавшая данную инфографику для продвижения информации так же использует социальные	Верно	гиперссылки на размещенный проект есть внизу картинки (под столбчатой диаграммой)

сети, мессенджеры и интернет.		
По сравнению с 2021 годом в 2022 году импорт сократился на 34 млрд. руб.	неверно 25	в период с 21 по 22 год импорт сократился на 34 млрд. <u>долларов</u> , что указывает в направлении <u>улучшения</u>
Расходы государственного бюджета на правоохранительную деятельность в 2023 менялись существенно.	неверно 25	расходы гос. бюджета на национальную безопасность и правоохранительную деятельность в 2023г. (по сравнению с 2022 годом) возросли 4,98 трлн. рублей, что составляет 58,41%. Это можно считать <u>существенным</u> <u>уменьшением</u> .

1 балл за верный ответ, 1 балл за верное обоснование.

Всего 6 баллов.

-45.

Задание 10. Распределите указанные расходы по двум группам, озаглавьте каждую из них.

- А) затраты на техническое обслуживание машин и оборудования;
- Б) расходы на транспортировку товаров;
- В) оплата труда производственных рабочих;
- Г) оплата труда управляющего персонала предприятия;
- Д) оплата электроэнергии, используемой для приведения в действие производственного оборудования;
- Е) арендная плата за пользование зданиями;
- Ж) расходы на приобретение сырья;
- З) расходы на обеспечение охраны предприятия;
- И) оплата услуг телефонной и Интернет-связи.

Ответ:

<i>Обстоятельные расходы</i>	<i>Необстоятельные расходы</i>
а), б), в), г), з), и) + + + + +	д), е), ж), з) + + +

25 + 1 = 26

2 балла за указание верного названия групп, 4 балла – при отсутствии ошибок в распределении. 3 балла - при ошибке в распределении одного элемента. 2 балл – при ошибке в распределении 2-3 элементов. 1 балл – при ошибке в распределении 4-5 элементов.

Максимальная оценка за задание – 6 баллов.

ВТОРОЙ ТУР

Задание 11. Прочитайте выдержки из статьи опубликованной на официальном сайте Московской городской организации КПРФ и ответьте на вопросы.

Ровно 100 лет назад в книге «_____», как высшая стадия капитализма», которую изучали в Советском Союзе во всех вузах, В.И. Ленин выявил пять основных экономических признаков _____ как «высшей» и «последней» стадии капитализма. Это:

- 1) Концентрация производства и капитала, дошедшая до такой высокой ступени развития, что она создала монополии, играющие решающую роль в хозяйственной жизни.
- 2) Слияние банковского капитала с промышленным и создание на базе этого «финансового капитала» финансовой олигархии.
- 3) Более важное значение вывоза капитала по сравнению с вывозом товаров.
- 4) Образование международных монополистических союзов капиталистов, осуществляющих передел мира.
- 5) Конец территориального раздела земли крупнейшими капиталистическими державами. <...>

Сегодня изменился каждый из пяти экономических признаков _____. Но приглядимся повнимательнее к четвертому, наиболее актуальному сегодня признаку — как выясняется, самому небезопасному для мира. Этому признаку посвящена пятая глава книги, которая называется «Раздел мира между союзами капиталистов». Глава начинается следующими словами: «Монополистические союзы капиталистов, картели, синдикаты, тресты, делят между собою, прежде всего, внутренний рынок, захватывая производство данной страны в своё, более или менее полное, обладание. Но внутренний рынок, при капитализме, неизбежно связан с внешним. Капитализм давно создал всемирный рынок. И по мере того, как рос вывоз капитала и расширялись всячески заграничные и колониальные связи и «сферы влияния» крупнейших монополистических союзов, дело «естественно» подходило к всемирному соглашению между ними, к образованию международных картелей». <...>

Пожалуй, наиболее важный политический вывод, который содержится в анализе Лениным четвертого экономического признака _____, заключается в том, что международные картели представляют собой угрозу для мира, являются источниками войн. <...>

11.1 Какой термин пропущен в тексте:

Ответ: Коллизиции

Правильный ответ 2 балла.

11.2 На основе первого признака, выделенного В.И. Лениным, назовите пример современных международных монополий

Ответ: Мировые производители телеаппаратов и прочей техники (Xiaomi, Apple, Lenovo, и т.д.)

Правильный ответ 2 балла.

11.3 В тексте упомянуты такие монополистические союзы капиталистов как картели, синдикаты, тресты дайте определение каждого из них.

Картель:

Синдикат:

Трест:

Каждое правильное определение 2 балла. Всего 6 баллов.

11.4 Какая «более современная» форма монополистического союза не упомянута в тексте? Дайте её название и определение.

Ответ:

Правильно названная форма – 2 балл, правильное определение 2 балла. Всего 4 балла.